

**YAKIN DOĞU İLKOKULU**

**2017-2018 DERS YILI**

**5. SINIF 1. BURS SINAVI**

**17 OCAK 2018 ÇARŞAMBA**

Adı – Soyadı: .....

Not:.....

Sınıf: .....

Süre: 90dk.

**2. OTURUM SORU KİTAPÇIĞI**

**MATEMATİK – İNGİLİZCE**

**GENEL AÇIKLAMA**

1. Bu kitapçık Matematik ve İngilizce sorularını içermektedir. Kitapçık 21 sayfadan oluşmaktadır.
2. Bu test 30 Matematik ve 20 İngilizce sorusundan oluşmaktadır. (Toplam 50 soru) Tüm soruları yanıtlamanız için size 90 dakikalık süre verilecektir.
3. Her sorunun 4 seçeneği vardır. Doğru yalnız bir tanesidir. Cevap anahtarındaki doğru cevabın harfini kurşun kalemle iyice karalayınız.
4. Bir soruda birden çok seçenek karalanırsa o soru yanlış olarak değerlendirilir.
5. Bilmediğiniz soru üzerinde fazla zaman harcamayınız. Zamanınız kalırsa tekrar dönersiniz.

## MATEMATİK TESTİ

1.

606

066

666

Yukarıdaki kartların herbirini bir sayı bölümü olarak alıp, dokuz basamaklı en büyük sayıyı oluşturmak istersek aşağıdaki seçeneklerde verilen sayılardan hangisini buluruz?

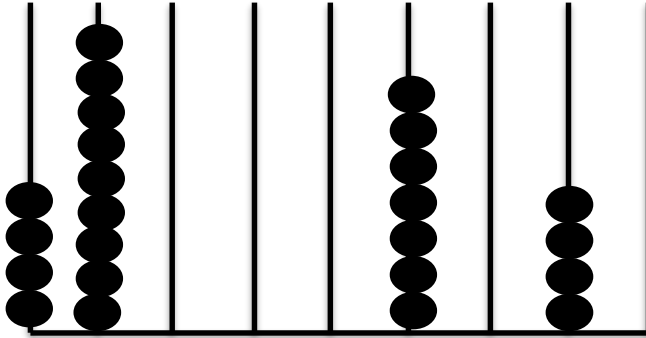
A) 606 066 666

B) 666 066 606

C) 606 666 066

D) 666 606 066

2.



Yukarıdaki abaküste gösterilmek istenen sayı aslında “Altı yüz doksan yedi milyon iki yüz otuz dokuz bin altı yüz kırk beş” olduğuna göre, bu abaküsü tamamlamak için kaç tane daha boncuğa ihtiyacımız vardır?

A) 15

B) 25

C) 27

D) 29

## MATEMATİK TESTİ

3.

$$\begin{array}{r} 4 \quad \bigcirc \quad 6 \\ \times \quad 5 \quad \triangle \\ \hline 9 \quad \square \quad 2 \\ + 2 \quad 3 \quad 8 \quad 0 \\ \hline 2 \quad 4 \quad 7 \quad 5 \quad 2 \end{array}$$

Yandaki çarpma işleminde

$$\square + \bigcirc \times \triangle = \text{kaçtır?}$$

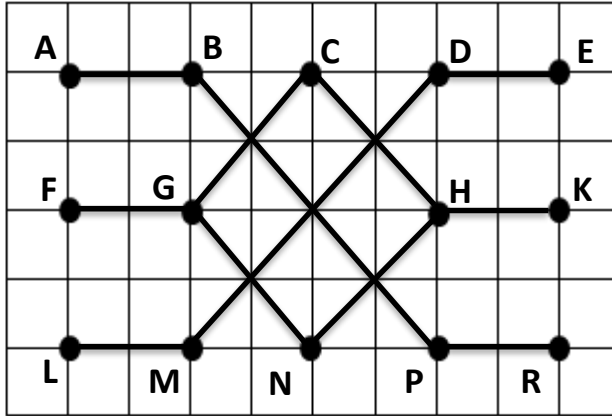
- A) 24  
B) 17  
C) 37  
D) 19
4. Okulumuzda 849 öğrenci vardır. Liderimiz Dr. Fazıl Küçük'ün ölüm yıldönümü olan 15 Ocak'ta okul olarak Hamitköy'deki Anıttepe'de mezarı başında bir tören yapmak için hazırlandık. Anıttepe'ye gitmek için herbiri 29 yolcu alan en az kaç tane minibüse ihtiyacımız vardır?
- A) 31  
B) 30  
C) 29  
D) 28
5. "3, 5, 6, 8" rakamlarını birer kez kullanarak yazabileceğimiz 5000'den büyük en küçük sayı ile 8000'den büyük en küçük sayının toplamı kaçtır?
- A) 13 568  
B) 14 516  
C) 13 724  
D) 14 021

## MATEMATİK TESTİ

6. Bora elindeki kitabın ilk gün 39 sayfasını okuyor. Bundan sonraki hergün bir önceki günden 4 sayfa fazla okuyarak kitabın tamamını 6 günde bitiriyor. Buna göre Bora'nın okuduğu bu kitap toplam kaç sayfadır?

- A) 284
- B) 194
- C) 294
- D) 296

7.



Yukarıdaki kareli zeminde verilen şekle göre aşağıda verilenlerden hangisi yanlıştır?

- A) [NH] // [DE]
- B) [FG] // [PR]
- C) [MD] // [GC]
- D) [CH] // [GN]

## MATEMATİK TESTİ

---

8. Fenerbahçe'nin Galatasaray maçında sahaya çıkardığı 11 oyuncusunun forma numaraları 1'den başlayan ardışık tek sayılardır. Fenerbahçe takımından Alper kırmızı kart görüp oyundan çıkınca, kalan oyuncuların forma numaraları toplamı 106 oluyor. Buna göre Alper'in forma numarası kaçtır?

- A) 21
- B) 19
- C) 17
- D) 15

9.

$$\text{I. } 60 \div 5 - 2 \times 4 = 4$$

$$\text{II. } 4 + 8 \times 6 \div 3 = 24$$

$$\text{III. } (36 + 4) \div 10 - 2 = 5$$

$$\text{IV. } 8 \div 4 + 4 \times (14 - 2) = 72$$

$$\text{V. } 24 + 6 \times 7 \div 2 - 13 = 32$$

Yukarıdaki eşitliklerden kaç tanesi doğrudur?

- A) 1
- B) 2
- C) 3
- D) 4

## MATEMATİK TESTİ

10.

OTOPARK ÜCRETLERİ	
ZAMAN	ÜCRET (TL)
0-1 saat	10
1-3 saat	14
3-6 saat	18
6-12 saat	22

Yukarıdaki tablo özel bir otopark girişinde asılı olan otoparkın ücret tarifesidir. Dün otoparka giren araçların 25 tanesi bir saatten az, 40 tanesi 1-3 saat arası ve 45 tanesi 6-12 saat arası otoparkta kalmıştır.

Buna göre bu otoparkın dünkü geliri kaç liradır?

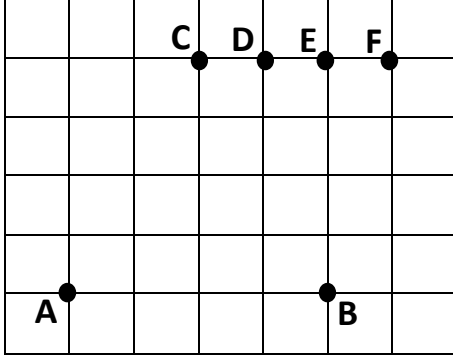
- A) 1000 TL
- B) 1 500 TL
- C) 1 800 TL
- D) 1 810 TL

11. Aşağıdaki ifadelerden hangisi doğrudur?

- A) İki nokta arasındaki en kısa çizgi bir doğru parçası oluşturur.
- B) Bir noktadan yalnızca bir doğru geçer.
- C) Işının iki ucu da sonsuz gider.
- D) İki noktadan sonsuz sayıda doğru geçer.

## MATEMATİK TESTİ

12.



Yukarıdaki kareli zeminde A, B, C, D, E, F noktaları ile geniş açılı bir üçgen çizmek isteyen Sarp, A ve B noktalarını üçgenin iki köşesi olarak alırsa üçüncü köşe olarak hangi noktayı almalıdır?

- A) C
- B) D
- C) E
- D) F

13.

$$\begin{array}{r} 6 \triangle \square \bigcirc \\ 7 \square \bigcirc \triangle \\ + 8 \bigcirc \triangle \square \\ \hline \end{array}$$

Yukarıda dört basamaklı üç sayı toplanıyor. Bu toplamada  $\triangle + \square + \bigcirc = 19$  ise bu toplama işleminin sonucu kaçtır?

- A) 23 109
- B) 23 019
- C) 23 009
- D) 22 109

## MATEMATİK TESTİ

---

14. Ali'nin babası "Meşhur" ayranlarının sahibidir. 20 bardak ayran için, 5 liraya yoğurt, 2 liraya su ve 2 liraya da bardak alıyor. Yaptığı 20 bardak ayranı tanesi 75 kuruştan satıyor. Ali'nin babası bu işten kaç lira kâr ediyor?

- A) 5 lira
- B) 6 lira
- C) 9 lira
- D) 15 lira

15. Mirayların evi ile ninesinin evi arasındaki mesafe 630 metredir. Dakikada 70 metre yürüyen Miray yemek götürmek için 12:32'de evden çıkıp ninesine gitmiştir. Orada 32 dakika kalan Miray evine saat kaçta dönmüştür?

- A) 13: 13
- B) 14: 13
- C) 13: 22
- D) 13: 20

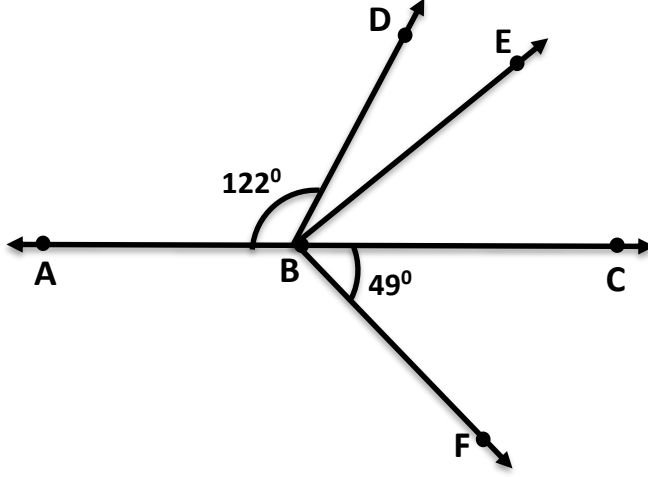
16. Bir çıkarma işleminde eksilen 39 821, fark 12 854 ise bu işlemde çıkan sayı, 31 298 sayısından kaç eksiktir?

- A) 4 331
- B) 26 967
- C) 4 401
- D) 4 341



## MATEMATİK TESTİ

17.



Yukarıdaki şekilde  $[BE] \perp [BF]$ ,  $\widehat{ABD} = 122^\circ$  ve  $\widehat{CBF} = 49^\circ$  olduğuna göre  $\widehat{DBE} =$  kaç derecedir?

- A)  $14^\circ$
- B)  $15^\circ$
- C)  $16^\circ$
- D)  $17^\circ$

18. Hasan Bey, ayda 620 TL ödeyerek 18 ay taksitle alabileceği beyaz eşya takımını aynı fiyattan 1200 TL peşin ödeyerek 24 ay taksitle almak isterse, aylık kaç TL taksit ödeyecek?

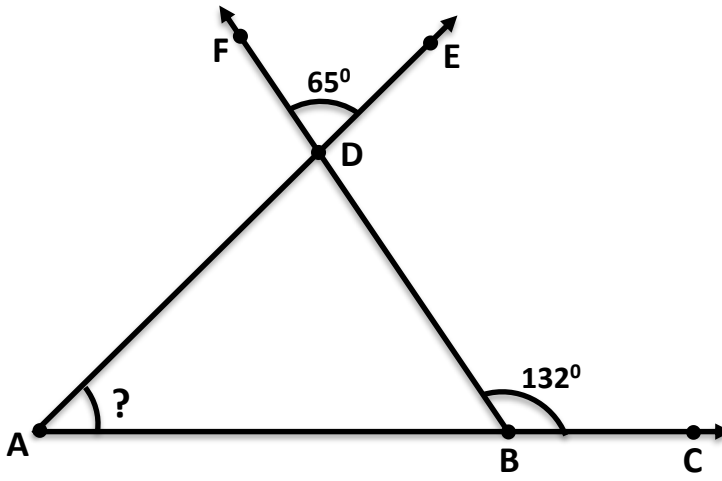
- A) 385 TL
- B) 405 TL
- C) 415 TL
- D) 435 TL

## MATEMATİK TESTİ

19.  $93\ 452 + 43\ 543 =$  işleminin sonucu en yakın binliğe yuvarlayarak yapan Ekin, aşağıdaki sonuçlardan hangisini elde eder?

- A) 138 000
- B) 137 000
- C) 136 000
- D) 136 995

20.



Yukarıdaki üçgen AC, BF ve AE ışınlarından oluşmuştur. Bu üçgende

$\widehat{DBC} = 132^\circ$ ,  $\widehat{FDE} = 65^\circ$  dir. Bu verilenlere göre ? ile gösterilen  $\widehat{DAB} =$  kaç derece olur?

- A)  $47^\circ$
- B)  $57^\circ$
- C)  $132^\circ$
- D)  $67^\circ$

## MATEMATİK TESTİ

---

21. 2 - 6 - 3 - 9 - 4 - 12 - 5 - 15 -  ö  tüsünde ve  yer  sırasıyla hangi sayılar gelmelidir?

- A) 7 - 20
- B) 6 - 18
- C) 6 - 20
- D) 6 - 22

22. Tatlısu'daki Minia Kıbrıs Müzesi'ne giriş tam bilet 3 TL, öğrenci bileti 1 TL'dir. 11 öğretmen arkadaşı ve 168 öğrenci ile birlikte buraya gözlem gezisine giden Burhan Bey müzeye girişte kaç lira ödeyecektir?

- A) 204 Lira
- B) 504 Lira
- C) 168 Lira
- D) 201 Lira

23. Aziz'in babası 300 lirayı hafta başı okula giden üç çocuğuna haftalık okul harçlığı diye şu şekilde paylaşıyor: Aziz'e Nilgün'den 20 lira az, Efe'ye Aziz'den 40 lira fazla veriyor.

Bu paylaşımına göre Nilgün kaç lira harçlık alıyor?

- A) 130 Lira
- B) 120 Lira
- C) 80 Lira
- D) 100 Lira


24. Aytekin Bey ve Seral Hanım, çocuklara atlama ipi yapmak için eşit uzunlukta birer ip alırlar. Aytekin Bey ipi 3 yerinden, Seral Hanım ise

## MATEMATİK TESTİ

5 yerinden keserek iplerini eşit parçalar halinde ayırırlar. Seral Hanım'ın elde ettiği parçalardan birinin uzunluğu 150 cm ise, Aytekin Bey'in elde ettiği parçalardan birinin uzunluğu kaç cm olur?

- A) 250 cm
- B) 225 cm
- C) 90 cm
- D) 300 cm

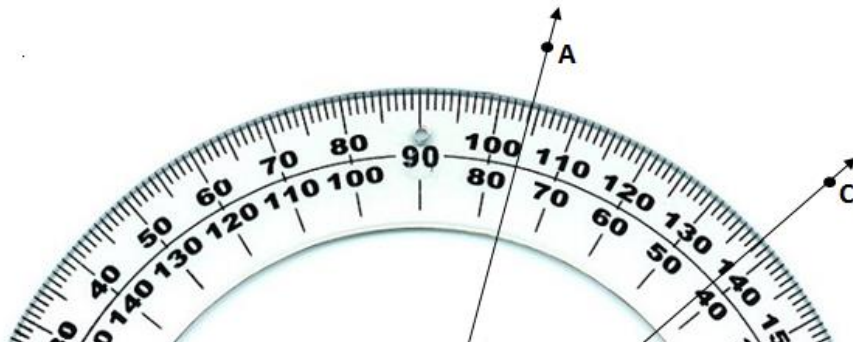
25.



Yukarıdaki çalışma tahtasındaki çıkarma işleminde eksilen sayı 240 artırılıp, çıkan sayı 163 azaltılırsa yeni fark kaç olur?

- A) 659
- B) 559
- C) 333
- D) 147

26.



## MATEMATİK TESTİ

---

Yukarıdaki  $\widehat{ABC}$ 'si en küçük geniş açıdan kaç derece küçüktür?

- A)  $14^\circ$
- B)  $48^\circ$
- C)  $57^\circ$
- D)  $49^\circ$

27.  $876A > 8763 > 7B45 > 7634$  sıralamasında  $(A+B)$ 'nin en küçük değeri kaçtır?

- A) 10
- B) 11
- C) 12
- D) 9

28. Güzelyurtlu bir narenciye üreticisi 280 kg mandalınayı herbirinde 20 kg olacak şekilde kasalara doldurup, kasası 56 liradan satıyor. Bu satış sonunda üretici kaç lira gelir elde eder?

## MATEMATİK TESTİ

- A) 584 Lira  
B) 784 Lira  
C) 840 Lira  
D) 684 Lira

29. Lefke'den 09.20'de yola çıkan bir tur otobüsü 1 saat 22 dakikada Lefkoşa'ya gelmiştir. Yolcularıyla 43 dakika kahve molası verdikten sonra Karpaz'a doğru yola çıkmıştır. 2 saat 13 dakika yolculuk yaptıktan sonra saat kaçta Karpaz'a ulaşmış olur?

- A) 13.08  
B) 13.38  
C) 14.05  
D) 13.35

30.

8	12	15
16	24	30
24	36	C
32	B	60
A	60	A
48	72	48

Yandaki örüntülerde A, B ve C harfleri örüntülere uygun sayıların yerine kullanılmıştır. Buna göre  $A + (B - C) =$  kaç olur?

- A) 88  
B) 83  
C) 43  
D) 45

MATEMATİK TESTİNİZ BİTMİŞTİR YANITLARINIZI KONTROL EDEREK  
İNGİLİZCE TESTİNE GEÇİNİZ.

# İNGİLİZCE TESTİ

## Read and answer questions 31-35.

### Keeping Clean

It is important to keep clean because this helps you to stay healthy and stops you from spreading germs.


Germs are tiny things, that can make us ill. They are so tiny you can't see them. Many germs can be passed from one person to another.

Germs are all around us. They are in the earth, in the air and in the water so you must keep clean and wash often.

There are different types of germs like bacteria and viruses. Bacteria can make your teeth decay. Viruses give you illnesses like colds and flu. Viruses pass from one person to another when we cough or sneeze.

Most of your body is covered with skin. This helps to protect you from germs.

You should have a shower or bath and use soap to make your skin stay healthy. You should eat lots of fruit and vegetables and meat and fish, too, because they are good for your skin. Don't eat too many sweets.



### 31. What can we do to keep healthy?

- A) Cough.
- B) Sneeze.
- C) Keep clean.
- D) Eat lots of sweets.

# İNGİLİZCE TESTİ

---

32. Which one is wrong about germs?

- A) They can cause tooth decay.
- B) They can pass from one person to another.
- C) They are tiny.
- D) You can see them.

33. We can wash away germs by .....

- A) Eating sweets
- B) Washing often
- C) Coughing
- D) Combing our hair

34. We pass viruses from person to person when we .....

- A) sneeze
- B) wash
- C) eat fruit
- D) eat meat

35. What protects us from germs?

- A) Colds.
- B) Flu.
- C) Skin.
- D) Teeth.



# İNGİLİZCE TESTİ

---

**Read and choose the correct answer: a, b, c or d.**

**36. March is the ..... month of the year.**

- A) first
- B) third
- C) fifth
- D) fourth

**37. I like the weather in the ..... . It's very hot and I can go swimming in the sea.**

- A) summer
- B) autumn
- C) spring
- D) winter

**38.**



..... is my book?

..... here. I'm reading it.



- A) Were / They
- B) Where / Its
- C) Where / It's
- D) Wear / They're

# İNGİLİZCE TESTİ

39.

I don't like football. It's ..... sport!


- A) more worse
- B) worse
- C) the worst
- D) the most worse



40. Tom: What are you doing ..... the weekend?

Paul: I'm staying at home. I ..... to study for my maths quiz.

- A) in / has
- B) at / must
- C) on / has
- D) at / have



41.

..... does your mum cook fish?

- A) How many
- B) How
- C) Where
- D) How often

Once a week.



## İNGİLİZCE TESTİ


---

42.



Is this Tom's ball?

No, it's not ..... . It's John's.



- A) hers
- B) his
- C) my
- D) he

43. Mum: ..... orange juice have we got?

Peter: There's one ..... in the cupboard.

- A) How much / bottle
- B) How many / glass
- C) Is there / bowl
- D) How / carton

44. A: Has your sister got a new computer?

B: No, .....

- A) she has
- B) she hasn't
- C) you haven't got
- D) she isn't



## İNGİLİZCE TESTİ

---

45.

Where's dad?




- A) Dad washes the car in the garage.
- B) They're playing football in the park.
- C) He often eats meat.
- D) He's reading his book in the living room.

46. A: How many hours ..... your parents ..... TV a week?

B: Ten.

- A) does / watches
- B) do / watch
- C) do / watches
- D) does / watch



47. It ..... my cousin's birthday last night. She ..... a party.

- A) were / have
- B) did / has
- C) is / was
- D) was / had

## İNGİLİZCE TESTİ

---

48. Mum, ..... you ..... lots of sugar in my coffee? It tastes very sweet.

- A) did / put
- B) does / put
- C) do / puts
- D) did / puts



49. .... any glue in your bag?

- A) There is
- B) There are
- C) Is there
- D) There isn't

50. Which letter comes after "S" in the alphabet?

- A) T
- B) Q
- C) R
- D) P

**İNGİLİZCE TESTİNİZ BİTMİŞTİR YANITLARINIZI KONTROL EDİNİZ.**

# İNGİLİZCE TESTİ

---