

YAKIN DOĞU İLKOKULU

2017-2018 DERS YILI

5.SINIF I. BURS SIRALAMA SINAVI

17 OCAK 2018 ÇARŞAMBA

Adı – Soyadı:.....

Not:.....

Sınıf :.....

Süre : 90dk.

1.OTURUM SORU KİTAPÇIĞI

TÜRKÇE- SOSYAL BİLGİLER –FEN VE TEKNOLOJİ

GENEL AÇIKLAMA

1. Bu kitapçık Türkçe – Sosyal Bilgiler - Fen ve Teknoloji sorularını içermektedir. Kitapçık 26 sayfadan oluşmaktadır.
2. Bu test 30 Türkçe, 10 Sosyal Bilgiler ve 10 Fen ve Teknoloji sorusundan oluşmaktadır. (Toplam 50 soru) Tüm soruları yanıtlamanız için size 90 dakikalık süre verilecektir.
3. Her sorunun 4 seçeneği vardır. Doğru yalnız bir tanesidir. Cevap anahtarındaki doğru cevabın harfini kurşun kalemle iyice karalayınız.
4. Bir soruda birden çok seçenek karalanırsa o soru yanlış olarak değerlendirilir.
5. Bilmediğiniz soru üzerinde fazla zaman harcamayınız. Zamanınız kalırsa tekrar dönersiniz.

TÜRKÇE TESTİ

4. Aşağıdaki cümlelerin hangisinde, “Yanıtlarınızı cevap anahtarı üzerine işaretlerken taşırmayınız” cümlesindeki altı çizilmiş olan sözcüğün zıt anlamlısı vardır?

- A) Sınav soruları zor gelince umutsuzluğa kapılıyorum.
- B) Haksız olan birinin karşı cevap vermesine çok kızıyorum.
- C) Ben bu kadar yolu bir saatte yürüyemem.
- D) KKTC’de üç tane doğal geçit vardır.

5.

- Yazıları çirkin olduğu için yazdıklarını sürekli siliyordu.
- Annem hafta sonları evi köşe bucak siler.
- Artık onunla görüşmüyorum. Çünkü onu hayatımdan sildim.
- Bulaşıkları yıkadıktan sonra peçeteye silip tabaklığa kaldırdı.

Yukarıdaki cümlelerde “silmek” sözcüğü kaç farklı anlamda kullanılmıştır?

- A) 1
- B) 2
- C) 3
- D) 4

6. Aşağıdaki cümlelerin hangisinde altı çizili olan sözcük gerçek anlamı dışında kullanılmıştır?

- A) Gökhan, okulun bahçesine giren köpeği hemen yakaladı.
- B) Polis hırsızı hemen yakaladı.
- C) Onun çok kez yalanını yakaladım.
- D) Okuldan kaçan çocuğu güvenlik görevlisi yakaladı.

TÜRKÇE TESTİ

Toplumumuzda “kırkı çıkmak” diye bir deyim vardır. Bu deyimdeki inanışın başlıca nedenleri, bebeğe nazar değmemesi ve hasta olmamasıdır.

Komşumuz Nesrin Teyze, iki gün önce sağlıklı bir bebek dünyaya getirmiştir. Hastaneden çıkıp eve gelince bebeğini evin en sessiz odasına yatırır. Çocuğu uyurken sokakta top oynanmasını yasaklar. Eşi Ahmet Amca’yı sürekli kahveye yollar, televizyonun sesini kısar, perdeleri kapatır, bebeğin yüzüne tülbent örter, evde herkes alçak sesle konuşur.

Tatil için iki aylık bebekleriyle ülkemize tatile gelen yabancıları “kendizevkleri için bebeklerini el yerlerinde perişan ediyorlar” diye suçlar.

Oysa bebeklerin bu dönemde son derece yoğun uyarıcılara gereksinimleri vardır. Çocuklarıyla gezmeye giden yabancılar doğru olanı yapmaktadırlar. Komşumuz Nesrin Teyze ise aslında yavrusunu dış etkenlerden korurken “bebeğinin zekâsının gelişmemesi için” çaba göstermektedir.

7. ve 8. sorular yukarıdaki parça ile ilgilidir.

7. Toplumumuzda yeni doğan bir bebeğin kırk günlük olana kadar herşeyden korunmasının nedeni nedir?

- A) Gürültülü ortamlarda çocuğun kulak sağlığı bozulmaması için.
- B) Çocuk korunurken daha iyi beslendiği için.
- C) Çocuğun hasta olmaması ve ona göz değmemesi için.
- D) Çocuk tatilde perişan olmaması için.

TÜRKÇE TESTİ

8. Aşağıda verilenlerden hangisi Nesrin Teyze'nin bebeği için yaptıklarından biri değildir?

- A) Evde televizyonun sesini kısar ve perdeleri kapatır.
- B) Bebeğini evin sessiz odasına yatırır.
- C) Bebeğinin yüzüne tülbent örter.
- D) Çocuğunun zekâsının gelişmesi için onu dış etkenlerden korur.

9. Aşağıdaki sözcük çiftlerinden farklı olan hangisidir?

- A) imkân -olanak
- B) derin - sığ
- C) güzel - çirkin
- D) barış – savaş

10.

SALİH SEMEN SAMİ SİNEM SEDEF

Yukarıdaki isimleri verilen çocuklar isim sırasına göre tahtaya kalkıp, tahtada yazılı olan işlemleri çözeceklerdir. Buna göre dördüncü sırada hangi çocuk kalkacak?

- A) Salih
- B) Sedef
- C) Sinem
- D) Semen

TÜRKÇE TESTİ

Erik Ağacı

Yılda iki kez çiçek açıyordu.

Ama meyve vermiyordu

Erik ağacım.

Dediler ki bana:

- Al baltayı eline,
Yürü üzerine, korkut onu.

Artık çiçek açmıyor erik ağacım.

Yılda iki kez çiçek açıyordu.

Ama artık çiçek açmıyor

Erik ağacım.

Dediler ki bana:

- Şarkılar söyle ona, sev.
Sevgi sözleriyle yüreğini doldur.
Bahar erken dayandı bu yıl kapıya.

11. ve 12. Sorular yukarıdaki şiir ile ilgilidir.

11. Şiirdeki erik ağacının özelliği neydi?

- A) Yılda iki kez meyve veren bir ağaçtı.
- B) Yılda iki kez çiçek açan bir ağaçtı.
- C) Yılda iki kez çiçek açıp bol meyve veren bir ağaçtı.
- D) Hiç çiçek açmayan ve meyve vermeyen bir ağaçtı.

12. Şiirin son mısrasında "Bahar erken dayandı bu yıl kapıya" cümlesiyle ne anlatılmak isteniyor?

- A) Sevgiyle yaklaşılacak her canlı mutlu olur.
- B) Erik ağacı baltanın korkusundan baharı erken getirmiştir.
- C) O yıl havalar çok erken ısınmıştı.
- D) Bu erik ağacı sadece çiçek açıyormuş.

TÜRKÇE TESTİ

13.

Bora

Basketbol takımımız sahaya galibiyet için çıktı.

Cansu

Yeni yılı ailece evde karşılayacağız.

Ela

Babam bugün üç kez markete gitti.

Simel

Yumuşak ekmeği ancak çok keskin bıçakla kesebiliriz.

Bu çocuklardan hangisinin cümlesinde sert sessizlerin benzeşmesi yoktur?

- A) Cansu
- B) Bora
- C) Ela
- D) Simel

14. "Akşam bize gelen misafirler geç vakte kadar oturdular. Benim yaşımdaki çocuklarıyla güzel zaman geçirdim. Annem ve babam ise onlarla bol bol sohbet edip eski günlerini anımsadılar."

Yukarıdaki paragrafta Büyük Ünlü Uyumu Kuralı'na uymayan kaç tane sözcük vardır?

- A) 6
- B) 5
- C) 4
- D) 3

TÜRKÇE TESTİ

15.

- 1- Güneş balçıkla sıvanmaz: Herkesin bildiği bir gerçek yalan yanlış sözlerle ört bas edilemez.
- 2- Keskin sirke küpüne zarar : Öfkeli, sert, sinirli kimsenin zararı kendisinedir.
- 3- Ne ekersen onu biçersin: Ekinleri zamanında ekmeli ve olgunlaşınca biçmeliyiz.
- 4- Ayağını yorganına göre uzat: Dengeli yaşamak isteyen bir insan mutlaka giderini gelirine göre ayarlamalıdır.

Yukarıdaki atasözleri, karşılarında açıklamalarıyla birlikte verilmiştir. Kaç numaralı atasözünün açıklaması yanlış verilmiştir?

- A) 1 numaralı atasözünün
- B) 2 numaralı atasözünün
- C) 3 numaralı atasözünün
- D) 4 numaralı atasözünün

16.

1. Her yıl eylül ayında okullar açılır.
2. Bizim evde salondan sonra yemek odasına geçilir.
3. Heceleri birleştirerek kelimeleri oluştururuz.
4. Öğretmenimizin elbisesinin ütüsü bozulmuş.

Yukarıdaki cümlelerin hangilerinde ulama vardır?

- A) 1., 2. ve 3. cümlelerde
- B) 2., ve 3. ve 4. cümlelerde
- C) 1., 3. ve 4. cümlelerde
- D) 1., 2. ve 4. cümlelerde

TÜRKÇE TESTİ

Emekli olduktan sonra can sıkıntımı gidermek ve yeni şeyler öğrenmek için bilgisayar kursuna yazıldım. Kursta toplam on kişiydik. En yaşlıları bendim. Diğerleri oldukça gençtiler. Hatta aralarında ilkokul, ortaokul ve lise öğrencileri bile vardı.

Yeni şeyler öğreneceğim için çok heyecanlıydım. Her gün kursta öğrendiklerimi evde tekrar ediyordum. Zaman hızla ilerledi ve iki aylık kurs dönemi sona erdi. Kursun sonunda öğrenmem gereken şeylerin tamamını öğrenememiştim. Oysa benimle birlikte kursa başlayan ilkokul öğrencileri bile benden çok daha az çalışmalarına rağmen birçok programı benden önce öğrenmişlerdi. Eee, ne demişler...

17. ve 18. sorular yukarıdaki parça ile ilgilidir.

17. Yukarıdaki parça, aşağıdaki seçeneklerde verilen atasözlerinin hangisiyle tamamlanabilir?

- A) Ne ekersen onu biçersin.
- B) Üzüm üzümüne baka baka kararır.
- C) Başarmanın yolu çok çalışmaktır.
- D) Ağaç yaş iken eğilir.

18. Aşağıdaki yargılardan hangisi bu parçadan çıkarılamaz?

- A) Yazar, çok çalışarak kurstaki herkesten daha başarılı olmuş.
- B) Yazar, ilkokul öğrencilerinden daha çok çalışıyormuş.
- C) Kurstakilerin hepsi yazardan yaşça daha küçükmüşler.
- D) Yazar bu kursta yeni bilgiler öğreneceği için çok heyecanlıymış.

TÜRKÇE TESTİ

19. “Yıkılmak” sözcüğü aşağıdaki cümlelerin hangisinde mecaz anlamda kullanılmıştır?

- A) Evimizin dış duvarı aşırı yağmurlardan yıkıldı.
- B) Dedesinin ölüm haberini alınca üzüntüden yıkıldı.
- C) Deprem o kadar şiddetliydi ki bütün binalar yıkıldı.
- D) Koskoca duvar işçilerin üzerine yıkıldı.

Bir zamanlar güzel bir ülkede üç kızı olan bir adam yaşarmış. Bu adamın oğlan çocuk sahibi olma hırsı varmış. Bu uğurda mumlar dikmiş, adaklar adanmış. Birgün adamcağızın dileği gerçek olmuş. Dört gözle yolunu gözlediği oğlunu kucağına aldığı gün tüm derdi, tasası uçup gitmiş. Bu oğlanın kafası biraz büyükçeymiş. Mutluluktan gözü hiç bir şey görmeyen adam bunu iyiye yormuş. Kafasının büyüklüğü akıllı olacağına gösterir diyerek ona “Bilgebaş” adını vermiş. Bilgebaş büyüdükçe kafası daha da büyümüş ama akli biraz kısa kalmış...

20. Masaldaki adam yeni doğan oğluna niye “Bilgebaş” adını vermiş?

- A) Çocuk doğduğu gün gözlerinden zekâ fışkırıyormuş.
- B) Oğlan çocuğu doğmasıyla adam çok zengin olmuş .
- C) Çocuğun kafasının büyüklüğünü akıllı olacağına yormuş.
- D) Adamın kızları çok akıllı olduğundan oğlunun da akıllı olacağına inanmış.

TÜRKÇE TESTİ

21.

DEYİM	AÇIKLAMASI
1- Göz açtırmamak	A- Görmezlikten gelmek.
2- Göz boyamak	B- Başka bir iş yapmasına vakit ve fırsat vermemek.
3- Göz ardı etmek	C- İsteddiği bir şeyi yaptırmak için korkutmak.
4- Gözdağı vermek	D- Kötü bir şeyi iyi gibi gösterecek aldatmak.

Yukarıda karışık olarak verilen deyimler ve açıklamalarını eşleştirdiğimiz zaman aşağıdaki seçeneklerden hangisi doğru olur?

A)

1- A
2- B
3- D
4- C

B)

1- B
2- A
3- D
4- C

C)

1- D
2- C
3- B
4- A

D)

1- B
2- D
3- A
4- C

TÜRKÇE TESTİ

22.

- Yarışmacılar beş metreden havuza daldı.
- Koca ağacın bütün yükünü çeken bu ortadaki cılız daldı.

Yukarıdaki cümlelerde altı çizilmiş olan kelimeler arasındaki anlam ilişkisi aşağıdaki cümlelerdeki altı çizilmiş olan sözcüklerin hangisinde yoktur?

A)

- Zengin işadaminin işçisine verdiği çek karşılıksız çıktı.
- Artık bu işten elini çek.

B)

- Her an okulumu düşünüyorum.
- Bu şarkıyı duyunca lütfen beni an.

C)

- Annem saçı için boya aldı.
- Evin pencereleri için sarı boya düşünüyoruz.

D)

- Çok karanlık, merdivenleri dikkatli in.
- Avcılar ayının yaşadığı ini buldu.

23.

**“Yaşamak güzel şey doğrusu
Üstelik hava güzelse
Hele gücün kuvvetin yerindeyse
Elin ekmek tutmuşsa bir de...”**

Melih C. Anday

Yukarıdaki dördlüğün ana duygusu nedir?

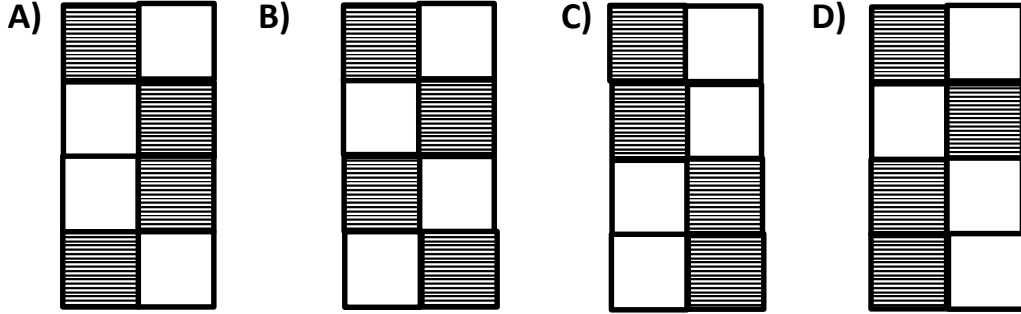
- A) Yaşama sevinci
- B) Güzel hava
- C) Çalışma sevinci
- D) Güçlü olmanın önemi

TÜRKÇE TESTİ

24.

	Şaşırma	Abartı
• Dikmen ilkokulu'nun basketbolda bizi yeneceğini aklımın ucundan bile geçirmemiştim.		
• Bugün bir toplantım olduğunu sana bin kere söyledim.		
• Dokuz, on kişi bu arabaya nasıl sığmış anlayamadım.		
• Benim bugün daha yapılacak dünya kadar işim var.		

Yukarıdaki cümlelerin çeşidine göre karşısındaki kareyi boyarsak, doğru şekil aşağıdakilerden hangisi olur?



Yavru güvercin yuvada yalnızdı. Üç kardeşi bir gün önce uçmaya başlamıştı. Kendisi korktuğu için uçmamıştı. Uçmak istiyor ama boşluğa atılmaya bir türlü cesaret edemiyordu. Kanatlarının kendisini taşıyamayacağını sanıyordu. Oysa kardeşlerinin kanatları kendisininkinden daha da kısaydı, buna rağmen onlar uçmayı başarmışlardı.

25. Yukarıdaki paragrafa göre yavru güvercinin uçmaya cesaret edemeyişinin sebebi nedir?

- A) Ona uçmayı öğretecek birinin olmayışı.
- B) Kendi kanatlarının kardeşlerininkilere göre daha kısa olması.
- C) Daha önce uçmayı denerken düşüp, korkmuş olması.
- D) Kanatlarının kendini taşıyamayacağını düşünmesi.

TÜRKÇE TESTİ

26.

1. İlk-o-kul
2. Se- mi- zo- tu
3. Baş- öğ- ret- men
4. De- niz- al- tı
5. Ho- ro- zi- bi- ği

Yukarıdaki birleşik sözcüklerden kaç tanesi hecelerine doğru ayrılmıştır?

- A) 1 B) 2 C) 3 D) 4

27. Aşağıdaki cümlelerin hangisinde “Sert ünsüzlerin yumuşaması kuralı” yoktur?

- A) Gözlüğümü takmadan televizyon seyredemem.
B) Babamın cebinde her zaman bozuk para bulunur.
C) Sokakta bulduğumuz köpeğin bakımını üstlendik.
D) Eskiden bağları, dağların yamaçlarına ekiyorlardı.

28.

Dayım, çok uzun zamandan beri yurt dışında yaşıyordu. Ondan yıllardır haber alamıyordum. Yaşadığını duymak bile bana yeterdi diye düşünürken bir aile dostumdan bir haber aldım. Bu haberi duyunca

Bu paragraf, aşağıdaki deyimlerden hangisi ile devam ettirilirse haberi kişinin “rahatladığı ve mutlu olduğu” anlamı çıkar?

- A) Eteklerim tutuştu.
B) İçim içime sığmadı.
C) Dilim Tutuldu.
D) İki ayağımız bir pabuca girdi.

TÜRKÇE TESTİ

YAZ KAMPI

Güven ve arkadaşları İngilizce öğretmenleri sayesinde ilk kez bir yaz kampına katılma fırsatı yakalamışlardı. Ancak ailelerini ikna etmek, onları bir kamp hayatına ayak uyduracak kadar büyüdüklerine inandırmak kolay olmadı.

Zorlu izin alma sürecinden sonra beklenen gün geldi. Öğrenciler ve görevli öğretmenler, birlikte yola çıktılar. İlk gençlik ateşiyle içi içine sığmayan öğrencileri yaz kampında, ailelerinden ilk kez ayrı kalmanın getirmiş olduğu şaşkınlık ve heyecan beklemektedir. Ayrıca kamp ortamına ayak uydurabilmek için bolca cesaret gösterisi ve disiplin kurallarına adapte olma çabaları da var...

Gülden Şahan

29. Çocuklar ailelerinden izin almakta neden zorlanmışlar?

- A) Aileler yaz kamplarına karşı oldukları için.
- B) Aileleri onların kamp hayatına ayak uyduracak kadar büyüdüklerine inanmadıkları için.
- C) Aileler, kampta görevli öğretmen sayısının az olduğuna inandıkları için.
- D) Aileler, çocuklarının kendilerinden ilk kez ayrılacakları için.

30. Aşağıdaki cümlelerde altı çizilmiş olan sözcüklerden hangisi somut isim değildir?

- A) Uzakta yaşayanlar memleket hasretini daha iyi biliyor.
- B) Cebindeki ipek mendilini çıkarıp alnındaki terini sildi.
- C) Sabahın ilk ışıkları insana güç ve kuvvet verir.
- D) Dalgaların sesi, kulağımızda bir melodi gibi tınlıyordu.

TÜRKÇE TESTİNİZ BİTMİŞTİR.

YANITLARINIZI KONTROL EDEREK SOSYAL BİLGİLER TESTİNE GEÇİNİZ.

SOSYAL BİLGİLER TESTİ

31. Lüzinyanlar tarafından yapılan St. Sophia Katedrali Osmanlıların Kıbrıs'ı fethinden sonra bazı eklemeler yapılarak, camiye dönüştürülmüştür. Bu caminin adı nedir ve nerededir?

- A) Selimiye Camisi- Lefkoşa
- B) Selimiye Camisi – Mağusa
- C) Lala Mustafa Paşa Camisi – Mağusa
- D) Hala Sultan Camisi - Larnaka

32.

- 18 yaşına kadar her insan çocuktur.
- Her çocuk yaşama hakkına sahiptir ve devlet bu hakkı güvence altına almakla mükelleftir.
- Çocuklar ekonomik sömürü için çalıştırılmaz.
- Çocukların dinlenme, oyun oynama ve yaşına uygun eğlencelere katılma hakkı vardır.

Yukarıda belirtilen haklar hangi sözleşmede yer almaktadır?

- A) İnsan hakları sözleşmesinde.
- B) İnsan haklarını koruma ve geliştirme sözleşmesinde.
- C) Çocuk hakları sözleşmesinde.
- D) Birleşmiş Milletler çocukları koruma ve haklarını ilerletme sözleşmesinde.

SOSYAL BİLGİLER TESTİ

33. Sivil Toplum Kuruluşları ile ilgili olarak aşağıda verilen bilgilerden hangisi doğrudur?

- A) Sivil Toplum Kuruluşlarının gelirleri devlet tarafından karşılanır.
- B) Sivil Toplum Kuruluşları toplumsal sorunların çözümüne katkıda bulunurlar.
- C) Sivil Toplum Kuruluşları sadece çevre ve sağlık sorunlarının çözümü için çalışırlar.
- D) Sivil Toplum Kuruluşlarında çalışan kişiler büyük mali kazanç elde ederler.

34.

Pınar

Kalbur, elek, sele, sesta, islim gibi eşyalar eskiden kullandığımız kültürümüze ait eşyalardır.

Emel

Saklambaç, Tutmaca, Ayaktaşı, Bezirgan Başı, lingiri, Kapucu başı, gibi çocuk oyunları kültürümüze ait oyunlardır.

Şenay

Enginar dolması ve asma yaprağı dolması sadece bizim kültürümüze ait yemeklerdir.

Suna

Tef, keman, darbuka gibi müzik aletleri kültürümüze ait halk danslarımızda kullanılan müzik aletleridir.

Yukarıda öğrenciler “Geçmişten Günümüze Kültür Mirasımız” konusunu işlerken bazı bilgiler veriyorlar. Hangi öğrencinin verdiği bilgi doğru değildir?

- A) Şenay'ın
- B) Suna'nın
- C) Emel'in
- D) Pınar'ın

SOSYAL BİLGİLER TESTİ

	HAK	SORUMLULUK
35.		
• Okuldaki eğitim ve öğretimden yararlanırım.		
• Okul eşyalarına zarar vermem.		
• İstedğim oyunu oynarım.		
• Hastalanınca hastaneye giderim.		
• Çevremizi temiz tutarım.		

Yukarıdaki tabloda verilen ifadelerin ne olduğu karşılıklarına (X) işaretiyle işaretlenirse doğru şekil aşağıdakilerden hangisi olur?

A)

X	
	X
X	
	X
	X

B)

X	
X	
	X
X	
X	

C)

	X
	X
X	
X	
	X

D)

X	
	X
X	
X	
	X

36. Aşağıda, tarihi eserler ve buldukları yerler eşleştirilmiştir. Hangi eşleştirme yanlıştır?

- A) Venedik Sütunu – Lefkoşa
- B) Lala Mustafa Paşa Camisi – Mağusa
- C) Girne Kapısı – Girne
- D) Girne Kalesi - Girne

SOSYAL BİLGİLER TESTİ

37.

- | | |
|------|---|
| I- | Milli Eğitim ve Kültür Bakanlığı |
| II- | Kanser Hastalarına Yardım Derneği |
| III- | Dr. Burhan Nalbantoğlu Devlet Hastanesi |
| IV- | Kıbrıs Türk Öğretmenler Sendikası |
| V- | KKTC Özel Eğitim Vakfı |

Yukarıda verilenlerden hangileri Sivil Toplum Kuruluşu'dur?

- A) I- II -V
B) II – IV - V
C) II – III - IV
D) II – III - V

38. Aşağıdakilerden hangisi KKTC'de kutladığımız milli bayramlardan biri değildir?

- A) Ramazan Bayramı
B) 15 Kasım Cumhuriyet Bayramı
C) 23 Nisan Ulusal Egemenlik ve Çocuk Bayramı
D) 19 Mayıs Atatürk'ü Anma Gençlik ve Spor Bayramı

SOSYAL BİLGİLER TESTİ

39. Osmanlılar Kıbrıs'ı aldıktan sonra, burayı eyalet yapıp bir vali atadı. Kıbrıs'a atanan ilk Osmanlı valisi _____ 1572 yılında Lefkoşa'da bir ticaret merkezi olan _____ yaptırdı.

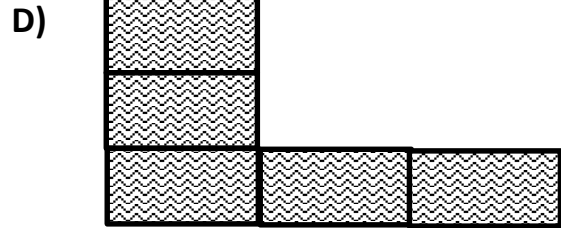
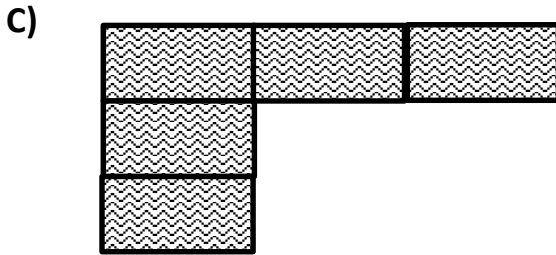

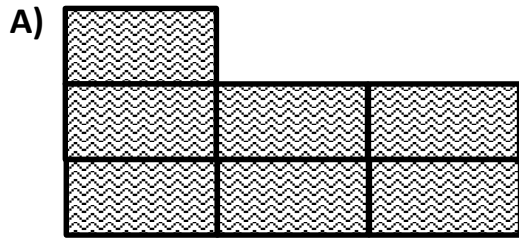
Yukarıdaki paragrafta boş bırakılan yerlere sırasıyla, aşağıda verilenlerden hangisi gelmelidir?

- A) Muzaffer Paşa – Kumarcılar Hanı
B) Lala Mustafa Paşa – Büyük Han
C) Piyale Paşa – Kumarcılar Hanı
D) Muzaffer Paşa – Büyük Han

40.

Hala Sultan Tekkesi	Selimiye Camisi	Lala Mustafa Paşa Camisi
Baf Kalesi	Derviş Paşa Konağı	Othello Kalesi
Mevlevi Tekkesi	Arabahmet Camisi	Kumarcılar Hanı

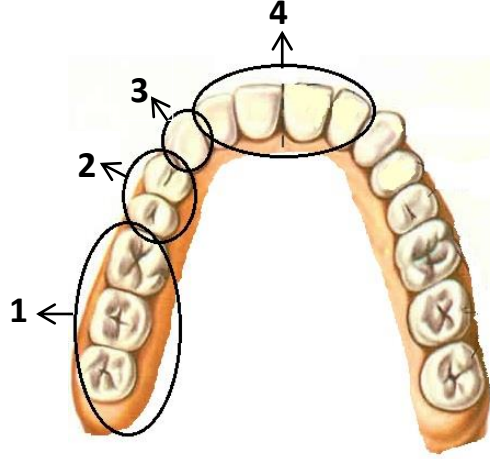
Yukarıda verilen tablodaki tarihi eserlerden Osmanlılar tarafından yapılanları boyarsak hangi şekil ortaya çıkar?



SOSYAL BİLGİLER TESTİNİZ BİTMİŞTİR.
YANITLARINIZI KONTROL EDEREK FEN VE TEKNOLOJİ TESTİNE GEÇİNİZ.

FEN VE TEKNOLOJİ TESTİ

41.



41. Yukarıda numaralandırılmış dişlerin çeşitleri hangi seçenekte doğru verilmiştir?

1	2	3	4
---	---	---	---

- A) Küçük azı Büyük azı Köpek Kesici
- B) Büyük azı Küçük azı Kesici Köpek
- C) Büyük azı Küçük azı Köpek Kesici
- D) Köpek Kesici Küçük azı Büyük azı

42.

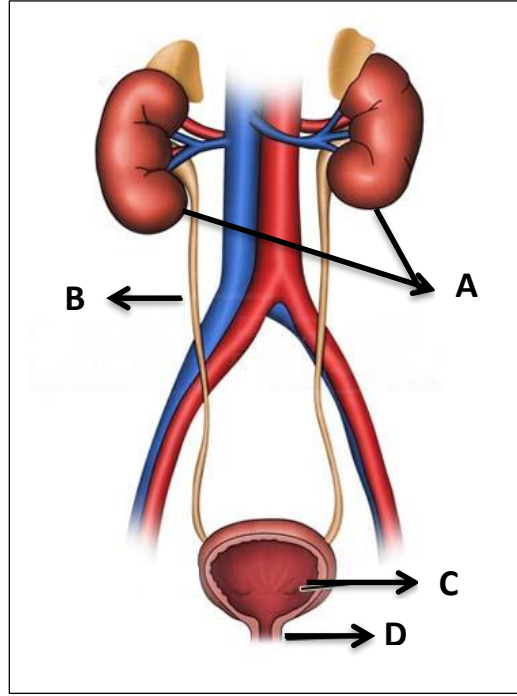
- 1- Sebze ve meyvelerde bolca bulunurlar.
- 2- Enerji verirler.
- 3- Vücut direncini artırırılar.
- 4- Yapıcı ve onarıcı besin gruplarındandır.

Yukarıda vitaminlerle ilgili olarak verilen bilgilerden hangileri yanlıştır?

- A) 1 ve 2
- B) 1 ve 3
- C) 2 ve 3
- D) 2 ve 4

FEN VE TEKNOLOJİ TESTİ

43.



Yukarıda boşaltımla ilgili olarak büyük harflerle organların isimleri, rakamlarla ise görevleri verilmiştir. Seçeneklerde de organlar ve görevleri eşleştirilmiştir. Buna göre hangisi doğrudur?

A- Böbrek	1- Böbreklerden gelen idrarı depolar.
B- Üreter	2- İdrarın dışarıya atılmasını sağlar.
C- İdrar kesesi	3- Kanı süzerek, zararlı maddelerden arındırır.
D- Üretra	4- Böbreklerden gelen idrarı idrar kesesine taşır.

A)

A- 1
B- 2
C- 3
D- 4

B)

A- 3
B- 4
C- 1
D- 2

C)

A- 2
B- 4
C- 3
D- 1

D)

A- 1
B- 3
C- 2
D- 4

FEN VE TEKNOLOJİ TESTİ

44.

Doğa

Dinamometre ile hassas ölçüm yapabilmek için dinamometrenin değer aralığının küçük olması gerekir.

Gülten

Ölçebileceğinden daha fazla kuvvet uygulanan dinamometre bozulur.

Hayriye

Büyük kuvvetleri ölçen dinamometrelerde kalın ve sert yay bulunur.

Efe

Büyük kuvvetleri ölçen dinamometrelerde ince ve yumuşak yay bulunur.

Yukarıdaki çocuklar dinamometrelerin özellikleri hakkında bazı bilgiler vermişlerdir. Buna göre hangi çocuk yanlış bir ifade kullanmıştır.

- A) Efe
- B) Hayriye
- C) Gülten
- D) Doğa

45. Aşağıda madde ile ilgili olarak verilen bilgilerden hangisi doğru değildir?

- A) Katı maddelerin ısı alarak sıvı hale geçmesine erime denir.
- B) Maddelerin erime ve donma sıcaklıkları birbirine eşittir.
- C) Madde miktarı artırılırsa, maddenin donma sıcaklığı değişmez.
- D) Doğadaki tüm maddelerin erime sıcaklıkları aynıdır.

FEN VE TEKNOLOJİ TESTİ

46.

- I- Sürtünme kuvveti daima hareketin zıt yönüne doğrudur.
- II- Pürüzlü yüzeylerde sürtünme kuvveti daha az, kaygan yüzeylerde daha fazladır.
- III- Cisimleri hareket ettirmek için cisme, sürtünme kuvvetinden daha fazla bir kuvvet uygulanmalıdır.
- IV- Sürtünme kuvveti hareket eden cisimleri yavaşlatır ve durdurur.
- V- Havadaki cisim ne kadar büyükse sürtünme kuvveti o kadar az olur.

Yukarıda sürtünme kuvvetiyle ilgili olarak verilen bilgilerden kaç tanesi doğrudur?

A) 5

B) 4

C) 3

D) 2

47.

	CİSME UYGULANAN KUVVET	CİSİMLERİN HAREKET YÖNÜ
1		Cisim sağa doğru hareket eder.
2		Cisim hareket etmez.
3		Cisim aşağıya doğru hareket eder.
4		Cisim sola doğru hareket eder.

Yukarıda verilen cisimlere uygulanan kuvvetler ve bu kuvvetlerden dolayı hareket yönleri verilmiştir. Verilenlerden hangisi yanlıştır?

A) 4


B) 3

C) 2

D) 1

FEN VE TEKNOLOJİ TESTİ

48.



Yukarıda elektrik tellerinin genişerek sarkması ile büzülüp gerginleşmesi , A ve B şekilleriyle verilmiştir. Aşağıda bu görüntüler ile oluşturduğu mevsimler eşleştirilerek verilmiştir. Buna göre hangisi doğrudur?

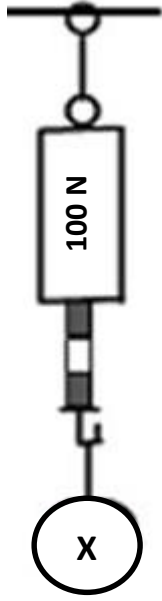
- A) A – yaz – B - kış
- B) A – kış – B - yaz
- C) A – yaz – B - ilkbahar
- D) A – kış – B - sonbahar

49. Maddelerde meydana gelen sıcaklık değişimleri ilgili olarak aşağıda verilen bilgilerden hangisi doğrudur ?

- A) Sıvı maddeler donarken ısı alır.
- B) Bir maddenin sıcaklığının azalması, o maddenin ısı verdiğini gösterir.
- C) Sıvıların büzülme özelliğinden yararlanılarak termometreler yapılmıştır.
- D) Gaz halindeki maddeler ısıtıldığında sıvı hale geçer.

FEN VE TEKNOLOJİ TESTİ

50.



Yandaki dinamometre en fazla 100 N büyüklüğündeki kuvveti ölçebiliyor. Bu dinamometrenin ölçüm çubuğu 5 bölmelidir.

Buna göre şekildeki X kuvvetinin büyüklüğü kaç Newtondur?

A) 20

B) 40

C) 60

D) 50

FEN VE TEKNOLOJİ TESTİNİZ BİTMİŞTİR. YANITLARINIZI KONTROL EDİNİZ.