

**YAKIN DOĞU İLKOKULU**

**2018-2019 DERS YILI**

**5.SINIF I. SEVİYE TESPİT SINAVI**

**17 OCAK 2019 PERŞEMBE**

**Adı – Soyadı:.....**

**Not:.....**

**Sınıf :.....**

**Süre : 90dk.**

**1.OTURUM SORU KİTAPÇIĞI**

**TÜRKÇE- SOSYAL BİLGİLER –FEN VE TEKNOLOJİ**

**GENEL AÇIKLAMA**

1. Bu kitapçık Türkçe – Sosyal Bilgiler - Fen ve Teknoloji sorularını içermektedir. Kitapçık 25 sayfadan oluşmaktadır.
2. Bu test 30 Türkçe, 10 Sosyal Bilgiler ve 10 Fen ve Teknoloji sorusundan oluşmaktadır. (Toplam 50 soru) Tüm soruları yanıtlamanız için size 90 dakikalık süre verilecektir.
3. Her sorunun 4 seçeneği vardır. Doğru yalnız bir tanesidir. Cevap anahtarındaki doğru cevabın harfini kurşun kalemle iyice karalayınız.
4. Bir soruda birden çok seçenek karalanırsa o soru yanlış olarak değerlendirilir.
5. Bilmediğiniz soru üzerinde fazla zaman harcamayınız. Zamanınız kalırsa tekrar dönersiniz.

# TÜRKÇE TESTİ

---

1.

Camın ilk olarak Mısırlılar ve Fenikeliler tarafından MÖ 2. yüzyılda üretildiği söylene de Mezopotamya'da bulunan ilk cam örneklerinin tarihi MÖ 3. yüzyıla dayanır. MÖ 2000-4000 yılları arasında cam ilk kez dekoratif küçük boncuklar olarak kullanılıyordu. Doğu Akdeniz Bölgesi'ndeki cam bulgularına, Antalya'nın Kaş ilçesi yakınlarında, MÖ 2000 yılında bir ticaret gemisinin kargo bölümünde rastlanmıştır.

Aşağıda verilenlerden hangisi yukarıdaki paragraftan çıkarılamaz?

- A) Camın ilk olarak MÖ 2. yüzyılda üretildiği söylenmektedir.
- B) Antalya'nın Kaş ilçesi yakınlarında gemilerle ticaret yapılmıştır.
- C) Cam günümüzden 2000 yıl önce kullanılmaya başlanmıştır.
- D) Mezopotamya'da MÖ 3. yüzyıla ait cam örnekleri bulunmuştur.

2. Aşağıdaki cümlelerin hangisinde altı çizili sözcük gerçek anlamda kullanılmıştır?

- A) Bu işte mutlaka onun da parmağı vardır.
- B) Müdür toplantıda bütün personele çok ağır sözler söyledi.
- C) Antrenmana geç kaldığım için antrenör öfkesinden kudurdu.
- D) Mehmet Bey yeni aldığı arabayı denemek için sürüşe gitti.

## TÜRKÇE TESTİ

3.

- 1- Başlayalı çok oldu ama henüz bitiremedim.
- 2- Herşeye rağmen en kısa zamanda bitireceğim.
- 3- Bu, şimdiye kadar okuduklarımın en güzelidir, diyebilirim.
- 4- Bugünlerde bir kitap okuyorum.

Yukarıdaki cümlelerden düzgün ve anlamlı bir paragraf oluşturmak istersek cümleleri hangi sıraya göre sıralamak gerekir?

- A) 4 – 3 – 1 – 2
- B) 4 – 3 – 2 – 1
- C) 1 – 2 – 3 – 4
- D) 4 – 2 – 3 – 1

4.

Her dersten sıkılırdım. “Bir bitse de bahçeye çıksak.” derdim. En çok fen dersine aklım ererdi. Yazık ki okulu bitiremedim. 9. sınıfta okuldan ayrıldım. Yani orta okulun son sınıfı ile lisenin birinci sınıfı arasında okulu bıraktım. Okusaydım doktor olmak istiyordum.

Bu paragrafın yazarı için aşağıdakilerden hangisi söylenemez?

- A) Okul yıllarında ders dinlemek ona hep sıkıcı gelmiştir.
- B) Okulu bitirmediği için üzgündür.
- C) Tahsilini sonradan farklı bir şekilde tamamlamıştır.
- D) Fen dersinde daha başarılı olmuştur.

## TÜRKÇE TESTİ

5.

1. alıp
2. çekmeceye
3. gittim
4. koydum
5. kitabı
6. odama
7. ve

Yanda numaralandırılmış sözcüklerle anlamlı bir cümle oluşturmak için aşağıda verilen hangi sıralamayı yapmak doğru olur?

- A) 5 – 1 – 6 – 3 – 7 – 2 – 4
- B) 7 – 1 – 6 – 4 – 2 – 5 – 3
- C) 2 – 6 – 1 – 5 – 3 – 7 – 4
- D) 6 – 5 – 2 – 3 – 7 – 1 – 4

6. Aşağıdaki cümlelerin hangisinde terim anlamlı sözcükler vardır?

- A) Eğer zamanında orada olmazsak otobüs hareket edecek ve aldığımız biletler yanacak.
- B) Yolculuk için aldığım bavul çok ağır olduğu için taşırken kollarım koptu.
- C) Karenin tüm kenar uzunlukları ve açıları birbirine eşittir.
- D) Ayşe bugün saçına pembe renkli bir toka taktı.

7.

- I. Ben her sabah erkenden kalkarım.
- II. Misafirler gider gitmez salonun tüm perdelerini açtı.
- III. Bizim ülkemizde yaz mevsimi uzun sürer.
- IV. Müdür herkesi tek tek odasına çağırdı.

Yukarıda numaralandırılmış cümlelerin hangisinde ünsüz benzeşmesi vardır?

- A) I
- B) II
- C) III
- D) IV

## TÜRKÇE TESTİ

### ÇEVRE KİRLİLİĞİ

Doğal yaşam alanlarının “insan eliyle” kirletilmesi “Çevre Kirliliği” denir. Çevre kirliliği “İnsanların faaliyetleri sonucu havada, suda ve toprakta meydana gelen olumsuz gelişmelerle doğal dengenin bozulması” şeklinde tanımlanabilir. Zararlı etkinlikler sonucu ortaya çıkan atıklar, kirlilik, koku ve gürültü gibi faktörler, çevre kirliliğine örnektir. Canlıların yaşamlarını olumsuz etkileyen zararlı ve yabancı maddelerin doğaya bırakılması sonucu çevre kirliliği oluşur. Kimyasal madde atıkları, fosil yakıt atıkları başta olmak üzere insanların faaliyetleri sonucu havanın, suyun ve toprağın kirlenmesi; bunun sonucunda doğal dengede meydana gelen olumsuz değişiklikler de çevre kirliliğidir. Canlı yaşam alanlarının ekolojik dengesini bozan çevre kirliliğine sebep olan en önemli unsur, her türlü atıktır. Çevre kirliliğini önlemek için geri dönüşüm uygulamalarına ihtiyaç vardır. Tekrar kullanılacak her türlü çöpün veya atığın çeşitli işlemlerle tekrar ekonomiye kazandırılması işlemlerini içeren geri dönüşüm, atıklardan yeni bir ürün veya hammadde üretilmesidir.

#### 8. Çevre kirliliğini önlemek için ne yapılması gerekir?

- A) Kimyasal maddelerden çıkan atıkların bir yerde depolanması gerekir.
- B) Fosil yakıtlardan çıkan atıkları toprağın altına gömmek gerekir.
- C) Çıkan atıkların geri dönüşüm yoluyla ekonomiye kazandırılması gerekir.
- D) İnsanların çevreyi kirleten her türlü faaliyetten vazgeçmesi gerekir.

## TÜRKÇE TESTİ

---

9. Aşağıdaki cümlelerin hangisinde sert ünsüzlerin yumuşaması kuralı yoktur?

- A) Kitabımı elime alır almaz gözlerim kapanıyor.
- B) Köpekleri bağlamak için çeşitli bağcıklar aldım.
- C) Bahçemize sığınan sokak köpeğine yiyecek ve su koydum.
- D) Annem, babamın cebinden bozuk para alarak sucuya verdi.

10. Aşağıdaki seçeneklerde verilen dizelerin hangisinde ulama vardır?

- A) Kapıları çalan benim  
Kapıları birer birer
- B) Çöken yollarda kalmamış  
Ne gelen, ne giden
- C) Her güzele gönül verme  
Bazen sevilir, bazen sevilmez
- D) Soğan ekmek yediğim kardeşler,  
Nedir bu feleğin bana ettiği işler?

11. Aşağıdaki cümlelerin hangisinde büyük harflerin kullanımıyla ilgili bir yazım yanlışı vardır?

- A) Ayten Teyze, torununu almak için hergün yürüyerek okula gelir.
- B) Kuzey Kıbrıs'ta dağlar denize paralel olarak uzanır.
- C) Diyabetliler için Trodos Dağları'na bir gezi düzenlenmiş.
- D) Lefkoşa Belediye Tiyatrosu hafta sonu güzel bir oyun sahneleyecek.

## TÜRKÇE TESTİ

12. Plastik şişeler, insan sağlığını doğrudan etkileyen malzemelerdir. Yapısında yer alan ve sonradan eklenen yüzlerce kimyasal madde insan sağlığını ciddi anlamda tehdit etmektedir. Özellikle plastik şişelerin içine konan asitli içeceklerin eritici etkisi ile bu kimyasallar plastikten koparak içindeki içecek ve yiyeceklerin özüne geçebiliyor. Bu durum insan sağlığına önemli ölçüde zarar veriyor.

Yukarıdaki paragraftan, aşağıda verilenlerden hangisi çıkarılamaz?

- A) Plastik şişeler insan sağlığına zararlıdır.
- B) Asitli içeceklerin eritici etkisi vardır.
- C) İnsan sağlığını en çok etkileyen şey, plastik şişelerde saklanan kimyasal maddelerdir.
- D) Plastik malzemelerin içeriğinde kimyasal maddeler vardır.

13. Aşağıdaki cümlelerin hangisinde altı çizilmiş olan sözcük mecaz anlamında kullanılmıştır ?

- A) Tüm evin eşyalarını sağlam olarak teslim aldım.
- B) Evini yaparken arkadaşlarından yardım aldı.
- C) Bu dönem karnemde istediğim notları alamayacağıma yanıyorum.
- D) İnşaatçı çalışan yorgun işçilerle röportaj yaptı.

14. Aşağıdaki cümlelerin hangisinde karşılaştırma vardır?

- A) Benden daha uzun ve daha güçlü biriyle karşılaştım.
- B) Buraya gezmeye ve dinlenmeye geldim.
- C) Annem, hepimizin ilk giydiği elbiseleri saklıyor.
- D) Okuldan gelirken markette durup alışveriş yaptık.

## TÜRKÇE TESTİ

15.

İnsanlar daha dün hesapları abaküste yapıyorlardı. Bugün hesap makineleri var. Önceleri kadınlar pasta yapmak için yumurtayı çatalla çırpıyordu. Bugün elektrikli mutfak robotları çıktı. Çiftçiler ekinleri orakla biçiyorlardı. Şimdi biçerdöverler var. Bugün bunlar olmasaydı saatlerce, günlerce süren işler kısa sürede bitirilemezdi. Hem zaman hem de harcadığımız emek daha fazla olurdu.

Yukarıdaki parçaya en uygun başlık aşağıdakilerden hangisidir?

- A) İcatların Ortaya Çıkışı
- B) Makinelerin İnsan Hayatındaki Yeri
- C) Makine İcat Etmenin Kolaylıkları
- D) Teknolojinin Tarihcesi

16. “Futbol oynarken ayakkabımın bağı çözüldüğü için ayakkabı ayağımdan çıktı.” Cümlesinde kullanılan bağ sözcüğünün sesteşi aşağıdaki hangi cümlede verilmiştir?

- A) Yılbaşında arkadaşlarımıza vereceğimiz hediyeleri kurdele ile bağladık.
- B) Torbayı bağlamak için kalın bir ip kullandı.
- C) Demet haline getirilen molehiyalar ince iple yapılmış bağlarla bağlanıyordu.
- D) Malya köyü bağlarıyla meşhur bir Türk köyüdür.

17. Aşağıdaki cümlelerin hangisinde “sebep-sonuç” ilişkisi yoktur?

- A) Senin için güzel bir akşam yemeği düzenledik.
- B) Otobüs geç kaldığı için duraktaki yolcu kuyruğu uzadı.
- C) Çok üşüdüğü için üzerine iki tane kazak giydi.
- D) Kötü hava koşullarından dolayı trafik aksadı.



## TÜRKÇE TESTİ

18.

Ağaçların budanmasının pek çok nedeni vardır. Bunlar arasında ağacın sağlıklı ya da rüzgârdan zarar görmüş dallarını temizlemek, havanın dallar arasında kolayca dolaşmasını sağlamak, ağacın boyunu kısaltmak, aşağıya sakan dalların yere değmesini engellemek, ağacın belirli bir şekilde gelişmesini sağlamak sayılabilir.

Yukarıdaki parçanın konusu aşağıdakilerden hangisidir?

- A) Ağacın oluşumu ve gelişimi.
- B) Ağaçların budanma sebepleri.
- C) Ağaçların budanma teknikleri.
- D) Ağaçların sağlıklı büyümesi.

19. Aşağıdaki cümlelerin hangisinde zıt anlamlı kelimeler bir arada kullanılmamıştır?

- A) Eve giden hırsızlar yükte hafif, parada ağır ne varsa çaldılar.
- B) Akile teyzenin evinde çıkan yangında nesi var, nesi yok hepsi yandı.
- C) Başarıya tembeller değil, çalışkanlar ulaşır.
- D) Annem bize güzel ve tatlı bir pasta yaptı.

20. Aşağıdaki cümlelerin hangisinde altı çizilmiş isim tamlaması diğerlerinden farklıdır?

- A) Ahmet amcanın en büyük zevki, kömür ateşinde kahve pişirmektir.
- B) Şiddetli yağın doludan dolayı ağaçların yaprakları delik deşik oldu.
- C) Sınıfımızın duvarlarını hep birlikte boyayacağız.
- D) Ayşe, ayakkabımın bağına basarak beni düşürdü.

## TÜRKÇE TESTİ

21. (... ) Her hecede mutlaka bir tane ünlü harf bulunur.  
(... ) Bir hecede en fazla üç tane harf bulunur.  
(... ) Bir sözcükte kaç tane ünsüz harf varsa o kadar hece var demektir.  
(... ) Birleşik sözcükler ayrı ayrı hecelenmez, bir sözcük gibi hecelenirler.

Yukarıda hecelerle ilgili olarak verilen bilgilerden doğru olanın karşısına (D), yanlış olanın karşısına (Y) harfi koyarsak aşağıdakilerden hangisi doğru olur?

- A) 

|   |
|---|
| D |
| D |
| Y |
| D |
- B) 

|   |
|---|
| D |
| Y |
| Y |
| D |
- C) 

|   |
|---|
| Y |
| D |
| Y |
| D |
- D) 

|   |
|---|
| D |
| Y |
| D |
| Y |

22. Aşağıdaki cümlelerin hangisinde topluluk ismi yoktur?

- A) Meclis bugün toplanıp vergi yasasına son şeklini verecek.  
B) Bizim takım galiba bu yıl ikinci lige düşecek.  
C) Mal sahibi işçilerle birlikte ağaçlarda kalan portakalları topladı.  
D) Bu çoban hergün aynı saatte sürüsüyle buradan geçer.

## TÜRKÇE TESTİ

---

**23. Aşağıdaki cümlelerin hangisinde satır sonuna sığmayan sözcükler hecelerine yanlış ayrılmıştır?**

- A) Annem evden çıkmadan önce elektrik fişini ve ütüyü kontrol eder.
- B) Muzaffer Paşa tarafından yapılan Büyük Han Lefkoşa'dadır.
- C) Şimdi hava çok sıcak. Futbol maçımızı akşamüstü yapalım.
- D) Babam, abime karne hediyesi olarak güzel bir bisiklet aldı.

**24. Aşağıdaki cümlelerin hangisinde abartma anlamı vardır?**

- A) Temiz havada yürümek insanı sağlıklı yapar.
- B) İki asker kışlanın girişinde nöbet tutuyordu.
- C) Oda o kadar sessizdi ki karıncaların ayak sesleri bile duyuluyordu.
- D) Uçaktan aşağıya bakınca insanları ve evleri çok küçük görüyoruz.

**25. "Üşüttüğüm için on gündür hasta yatıyorum. Keşke daha sıkı giyinseydim."**

**Yukarıdaki cümlede hangi duygu vardır?**

- A) Öfke
- B) Şaşırma
- C) Sitem
- D) Pişmanlık

## TÜRKÇE TESTİ

Kuru yemişçi Cemil amca  
Ayakta dura dura,  
Yemiş sattı tek başına.  
Kendini tanıdığım günden beri,  
Haftalar, aylar, yıllarca  
Kuru sıkı olmaktan  
Kurtulamadı Cemil amca.  
Yemişlerini sattığı adamlar  
Yiye yiye şişmanladıkça,  
Gömlek düğmeleri hep koptu.  
Cemil amcaysa zayıflıktan  
Gömleğin içinde kayboldu.  
Kuru yemişlere baka baka,  
Kurudu gitti Cemil amca.  
Yiyenler kuru yemişleri  
Fındık gibi yuvarlandıkça  
O, pasadembo gibi inceldi.  
Ve bir gün çıt diye çatladı.  
Ölüverdi ansızın Cemil amca.

**26. Yukarıdaki şiirde kimlerin gömlek düğmeleri kopmuş?**

- A) Kuru yemişçi Cemil amcanın.
- B) Cemil amcanın kuruyemişlerini satın alanların.
- C) Çok pasadembo yiyenlerin.
- D) Fındık gibi yuvarlanıp, pasadembo gibi incelenlerin.

## TÜRKÇE TESTİ

### ZİYARETLER

Kurban Bayramı'nın ikinci günü Leymosun'da (Limasol), "Ziyaretler" adıyla bir gezi düzenlenirdi. Benim hatırladığım bu geziyi düzenleyenler Zalihe Abla ve Ayşe Halaydı. Zalihe Abla kısa boylu, zayıf, çok hareketli bir kadındı. Kapı kapı gezerek veya arkadaşlarından liste alarak, katılacak olanlardan da "pey" alır gezi için otobüsleri ayarlardı.

Ziyaretin asıl amacı dinimizce kutsal sayılan yerleri görmektir. Pek çok kişi ise bu ziyaretlere gezmek ve eğlenmek için katılır, bunu da inkâr etmezdi. Ziyaretler için henüz horozlar ötmeden kalkılır, sabahın ilk ışıklarıyla yola çıkılırdı. Yiyecek ve içecekler önceden evde hazırlandığı için, kahvaltı otobüste yapılır veya bunun için kısa bir mola verilirdi.

İlk durak İskele'de Hala Sultan Tekkesi'ydi. Tekke ziyaret edilip dualar okunduktan sonra deniz kenarında gezinti yapılırdı. İskele'de "Bekir Paşa Türbesi'ni" ziyaret ettikten sonra Mağusa'ya doğru yola çıkılırdı. Mağusa'da Canbulat Bey Türbesi ziyaret edildikten sonra Lefkoşa'ya gidilirdi.

Yolculardan bazıları akraba ve arkadaşlarında, bazıları ise tekkede veya otelde geceyi geçirirdi. Sabahleyin belirlenen yerde buluşulur ve Girne'ye doğru yola çıkılırdı.

Hz. Ömer Tekkesi ziyaret edildikten sonra Girne'de bir mola verilir ve oradan Lapta Başpınar'a gidilirdi. Gürül gürül akan su kenarında yemek yenir, "vur patlasın, çal oynasın" herkes bir güzel eğlenirdi.

İki gün süren ziyaretler sonunda otobüs Leymosun'a doğru yol alır, akşama herkes evinde olurdu.

Çağla KONULOĞLU

Anılarla Kıbrıs'ta Yaşam

## TÜRKÇE TESTİ

27. Kurban Bayramı'nın ikinci günü Leymosun'da düzenlenen gezinin asıl amacı neydi?

- A) Lapta Başpınarı'nda gürül gürül akan su kenarında eğlenmekti.
- B) Mağusa'da Canbulat Bey Türbesi'ni ziyaret etmekti.
- C) İskele'deki Bekir Paşa Türbesi'ni ziyaret etmekti.
- D) Dinimizce kutsal sayılan yerleri ziyaret etmekti.

28. Parçaya göre Leymosunluların ziyaret adı verdikleri gezide aşağıda verilen yerlerden hangisi ziyaret edilmezmiş?

- A) Hala Sultan Tekkesi
- B) Hafız Ahmet Paşa Camisi
- C) Hz. Ömer Tekkesi
- D) Canbulat Bey Türbesi

29.

Bütün insanları dostun bil kızım,  
Sevincin ürünüdür insan,  
Nefretin değil  
Zulmün önünde,  
Dimdik tut onurunu,  
Sevginin önünde eğil kızım.

Yukarıdaki şiirde, aşağıda verilenlerden hangisi yoktur?

- A) Topluluk ismi
- B) Soyut isim
- C) Somut isim
- D) Çoğul isim

## TÜRKÇE TESTİ

---

30.

İyi bir dinleyici sabırlıdır. Konuşanı sonuna kadar izler. Konuşanla aynı düşüncede olmayabilir. Ama hiçbir zaman sözünü kesmez. Eğer soracakları varsa konuşma bittikten sonra sorar.

Yukarıdaki paragrafa bir başlık koymak istersek aşağıda verilenlerden hangisi en uygun olur?

- A) Çok Konuşmak
- B) İyi Dinlemek
- C) Cevap Vermek
- D) Soru Sormak

**TÜRKÇE TESTİNİZ BİTMİŞTİR.  
YANITLARINIZI KONTROL EDEREK SOSYAL BİLGİLER TESTİNE GEÇİNİZ.**

## SOSYAL BİLGİLER TESTİ

---

31.

- I- Bayındırlık ve Ulaştırma Bakanlığı
- II- Kıbrıs Türk Ticaret Odası
- III- Gençlik Dairesi
- IV- Özel Eğitim Vakfı
- V- Alayköy Kültür ve Sanat Derneği
- VI- Girne Akçiçek Hastanesi

Yukarıda verilen kurum ve kuruluşlardan hangileri sivil toplum kuruluşu değildir?

- A) II – III – IV – V
- B) I – IV – V
- C) II – IV – VI
- D) I – III – VI

32. Aşağıda Kıbrıs'taki tarihi eserler ve bu eserlerin buldukları yerler eşleştirilerek verilmiştir. Bu eşleştirmelerden hangisinde yanlış yapılmıştır?

- A) Derviş Paşa Konağı – Lefkoşa
- B) Venedik Sarayı – Lefkoşa
- C) Lala Mustafa Paşa Camisi – Mağusa
- D) Hz. Ömer Tekkesi – Girne



## SOSYAL BİLGİLER TESTİ

---

**33. Aşağıda verilenlerden hangisi Sosyal Hizmetler Dairesinin görevlerinden biri değildir?**

- A) Hasta olan KKTC vatandaşlarına tedavi ücreti ödemek.
- B) Kimsesiz çocukları, daireye bağlı yuva ve yurtlara yerleştirmek.
- C) Yaşlıların bakım ve rehabilitasyonlarını sağlamak.
- D) Muhtaç ve yoksullara aylık maddi yardım, giysi ve ev eşyası gibi yardımda bulunmak.

**34. Aşağıdaki seçeneklerde verilen bilgilerden hangisi doğrudur?**

- A) Toplumun sağlığını korumak sadece devletin görevidir .
- B) Yeni hastaneler açmak sivil toplum örgütlerinin görevleri arasındadır.
- C) Toplum sağlığını korumada toplumdaki bireylerin de sorumlulukları vardır.
- D) Sağlık alanında hizmet veren kurumlara sivil toplum örgütleri denir.

**35. Aşağıdakilerden hangisi KKTC’de kutlanılan Milli Bayramlardan biri değildir?**

- A) 20 Temmuz Barış ve Özgürlük Bayramı
- B) 23 Nisan Ulusal Egemenlik ve Çocuk Bayramı.
- C) 15 Kasım Cumhuriyet Bayramı.
- D) 10 Ağustos Kurban Bayramı.

## SOSYAL BİLGİLER TESTİ

36.

|   |  |
|---|--|
| • Hastalanınca hastaneye giderim.             |  |
| • Ödevlerimi zamanında yaparım.               |  |
| • Okul eşyalarına ve araçlarına zarar vermem. |  |
| • Sağlıklı ve temiz bir çevrede yaşarım.      |  |
| • Düşüncelerimi korkmadan özgürce söylerim.   |  |

Yukarıdaki tabloda haklarım ve sorumluluklarım verilmiştir. Buna göre hak olan ifadenin karşısına (H) harfi, sorumluluk olan ifadenin karşısına (S) harfi koyarsak aşağıda çıkan taplolardan hangisi doğru olur?

A)

|   |
|---|
| H |
| S |
| H |
| H |
| S |

B)

|   |
|---|
| H |
| S |
| S |
| H |
| H |

C)

|   |
|---|
| H |
| H |
| S |
| S |
| S |

D)

|   |
|---|
| S |
| H |
| H |
| H |
| S |

37. Beşparmak Dağları üzerinde, denizden 700 metre yükseklikte oldukça sarp iki tepe üzerine yapılmış olan tarihi kalenin adı nedir?

- A) Bufavento Kalesi
- B) Kantara Kalesi
- C) St Hilarion Kalesi
- D) Baf Kalesi

## SOSYAL BİLGİLER TESTİ

38.

- I- 20 Temmuz Barış Harekatı.
- II- Osmanlıların Kıbrıs'ı alması.
- III- Kıbrıs'ta Lüzinyan hakimiyeti.
- IV- KKTC'nin ilanı.
- V- Kıbrıs'ın İngilizlere kiralınması.

Yukarıda verilen numaralandırılmış olayları kronolojik sıraya koyarsak hangi seçenekteki sıralama doğru olur?

- A) III – II – V – I – IV                      B) I – II – III – IV – V  
C) III – V – II – I – IV                      D) III – II – I – V – IV

39.

- Her çocuk eğitim alma hakkına sahiptir.
- Her çocuk sağlık hizmetlerinden yararlanma hakkına sahiptir.
- 18 yaşına kadar her insan çocuktur.
- Her çocuk oyun oynama, dinlenme ve yaşına uygun eğlencelere katılma hakkına sahiptir.
- Çocuklar ekonomik sömürü için çalıştırılmazlar.

Yukarıda birkaç tanesi verilen hakların tümü bütün dünya ülkeleri tarafından kabul edilen hangi sözleşmede vardır?

- A) İnsan Hakları Sözleşmesinde  
B) Çocuk Hakları Sözleşmesinde  
C) İnsan Haklarını ve Çocukları Koruma Sözleşmesinde  
D) Birleşmiş Milletler Çocukları Koruma ve Haklarını Geliştirme Sözleşmesinde

## SOSYAL BİLGİLER TESTİ

40. KKTC'nin kuruluşundan günümüze kadar görev yapmış Cumhurbaşkanlarımız sırasıyla doğru olarak hangi seçenekte verilmiştir?

|    | 1.Cumhurbaşkanı  | 2.Cumhurbaşkanı   | 3.Cumhurbaşkanı   | 4.Cumhurbaşkanı   |
|----|------------------|-------------------|-------------------|-------------------|
| A) | Rauf R. Denktaş  | Dr. Derviş Eroğlu | Mehmet Ali Talat  | Mustafa Akıncı    |
| B) | Rauf R. Denktaş  | Mehmet Ali Talat  | Mustafa Akıncı    | Dr. Derviş Eroğlu |
| C) | Mehmet Ali Talat | Rauf R. Denktaş   | Dr. Derviş Eroğlu | Mustafa Akıncı    |
| D) | Rauf R. Denktaş  | Mehmet Ali Talat  | Dr. Derviş Eroğlu | Mustafa Akıncı    |

**SOSYAL BİLGİLER TESTİNİZ BİTMİŞTİR.  
YANITLARINIZI KONTROL EDEREK FEN VE TEKNOLOJİ TESTİNE GEÇİNİZ.**

## FEN VE TEKNOLOJİ TESTİ

41. Vücudumuzda bir kesik veya bir yara oluştuğunda zamanla bu kesilen yerlerin ve yaraların iyileşmesi proteinler sayesinde olur. Proteinler de “Yapıcı ve Onarıcı” besin grubundadır.

Aşağıda görselleri verilen besinlerden hangisi yapıcı ve onarıcı besinlerden biri değildir?



B)



C)



D)



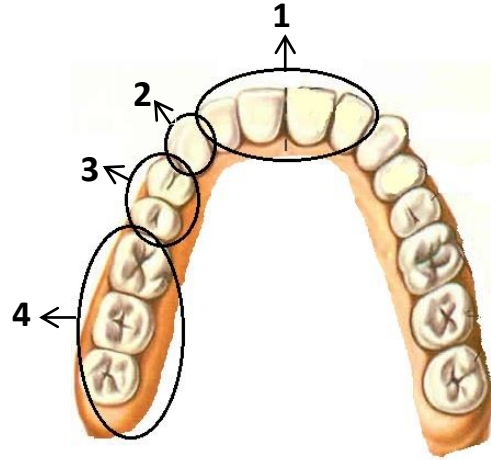
42. “Böbrek yetmezliği nedeniyle vücutta biriken zararlı maddelerin ve sıvıların atılması için geliştirilen makineye ..... makinesi ve hastanın bu makineye bağlanarak kanın atık maddelerinden temizlenmesine de .....denir.”

Yukarıdaki ifadenin doğru olması için boş bırakılan yerlere sırasıyla hangi seçenekte verilenler getirilmelidir?

- A) Diyaliz - diyalizma  
B) Diyaliz - hemodiyaliz  
C) Hemodiyaliz – diyaliz  
D) Diyaliz - hemogram

## FEN VE TEKNOLOJİ TESTİ

43.



Ağızımızdaki dişler yukarıdaki üst çene görselinde numaralandırılmıştır. Buna göre; aşağıdaki seçeneklerde numaralara göre diş çeşitleri verilmiştir. Hangi seçenekteki eşleştirme doğrudur?

1

2

3

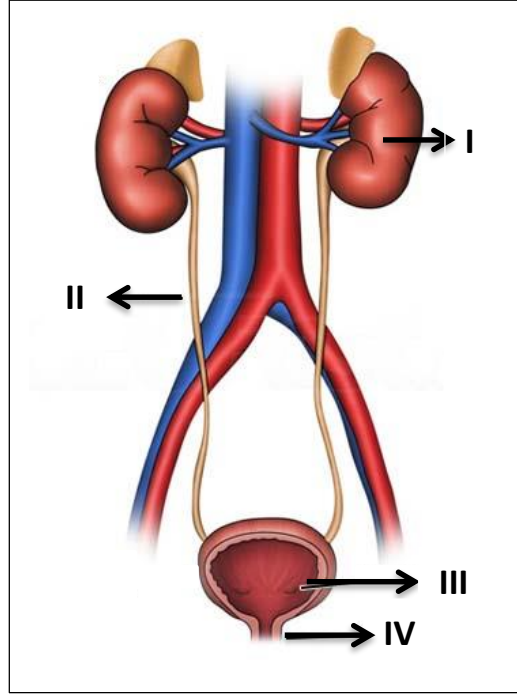
4

- A) Küçük azı dişleri – kesici dişler – köpek dişleri – büyük azı dişleri  
B) Büyük azı dişleri – küçük azı dişleri – köpek dişleri – kesici dişler  
C) Kesici dişler – küçük azı dişleri – köpek dişleri – büyük azı dişleri  
D) Kesici dişler – köpek dişleri – küçük azı dişleri – büyük azı dişleri

44. Aşağıda sindirimle ilgili olarak bazı bilgiler verilmiştir. Verilen bu bilgilerden hangisi yanlıştır?

- A) Sindirim organları içinde sadece yutakta sindirim olayı olmaz.  
B) Sindirim ağızda başlar.  
C) Sindirilmiş besinler kanla bütün vücuda taşınır.  
D) Besinler midede salgılanan sıvılarla küçük parçalara ayrılır ve çorba haline getirilir.

45.



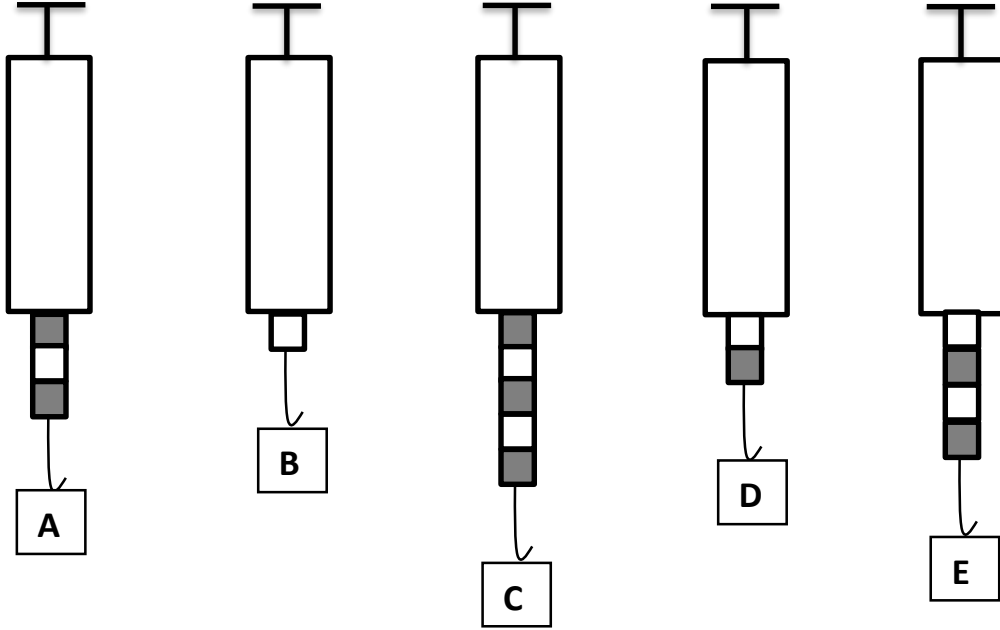
Yukarıdaki şekilde boşaltma sistemimizde yer alan yapı ve organlar numaralarla gösterilmiştir. Numaralanmış yapı ve organlarla ilgili olarak aşağıda verilenlerden hangisi doğrudur?

- A) I → idrarı, idrar kesesine taşır.
- B) II → Süzgeç gibi kanı süzer ve atık maddelerden arındırır.
- C) III → Vücuttan atılması gereken idrar burada biriktirilir.
- D) IV → İdrarı süzerek yeniden idrar kesesine gönderir.

46. Aşağıdaki olaylardan hangisinde sürtünme en az düzeyde olmuştur?

- A) Pürüzsüz ve boyasız tahta zemin üzerindeki bir dolabın çekilmesi.
- B) Beton zemin üzerinde bulunan bir dolabın çekilmesi.
- C) Cilalı parke zemin üzerindeki bir dolabın çekilmesi.
- D) Toprak zemin üzerindeki bir dolabın çekilmesi.

47.



Yukarıda aynı kuvvetleri ölçen 5 tane dinamometre verilmiştir. A diye isimlendirilen cismin ağırlığı 60 N olduğuna göre C, D, ve E cisimlerinin ağırlıklarının toplamı kaç Newtondur?

- A) 120 N      B) 200 N      C) 180 N      D) 220 N

48. “.....<sup>1</sup>..... alan maddelerin .....<sup>2</sup>..... artar. Bugün havanın .....<sup>3</sup>..... 22° C'tır.

Yukarıdaki eksik bırakılmış cümlelerin, doğru tamamlanması için numaralandırılmış yerlere aşağıdakilerden hangileri gelmelidir?

- |             | 1 | 2         | 3 |           |
|-------------|---|-----------|---|-----------|
| A) Sıcaklık | — | ISISI     | — | ISISI     |
| B) Isı      | — | sıcaklığı | — | sıcaklığı |
| C) Isı      | — | sıcaklığı | — | ISISI     |
| D) Sıcaklık | — | ISISI     | — | sıcaklığı |



## FEN VE TEKNOLOJİ TESTİ

49.

- I. Sıvı haldeki bir maddenin ısı vererek gaz haline geçmesine buharlaşma denir.
- II. Sıvı haldeki bir maddenin ısı vererek katı hale geçmesine donma denir.
- III. Katı haldeki bir maddenin ısı alarak sıvı hale geçmesine erime denir.
- IV. Gaz halinde bir maddenin ısı alarak sıvı hale geçmesine yoğuşma denir.

Yukarıda maddenin hal değiştirmeleriyle ilgili olarak verilen bilgilerden hangisi veya hangileri doğrudur?

- A) I ve II  
B) I , II ve III  
C) III ve IV  
D) II ve III

50. (... ) Genleşmesi eşit olarak gerçekleşen civa, termometrelerde kullanılır.  
(... ) Deodorant şişeleri ateşe atılırsa genleşmeden dolayı patlayabilir.  
(... ) Su donarken büzülür.  
(... ) Kayalar, genleşme ve büzülme nedeniyle toprağa dönüşür.

Yukarıda genleşme ve büzülme ile ilgili olarak verilen ifadelerden doğru olanın yanına (D), yanlış olanın yanına (Y) koyarsak, aşağıdakilerden hangisi doğru olur?

- |        |        |        |        |
|--------|--------|--------|--------|
| A) (D) | B) (D) | C) (Y) | D) (Y) |
| (D)    | (Y)    | (D)    | (Y)    |
| (Y)    | (Y)    | (Y)    | (D)    |
| (D)    | (D)    | (D)    | (Y)    |

FEN VE TEKNOLOJİ TESTİNİZ BİTMİŞTİR. YANITLARINIZI KONTROL EDİNİZ.