

**YAKIN DOĞU İLKOKULU**

**2017-2018 DERS YILI**

**5.SINIF 2. BURS SIRALAMA SINAVI**

**28 MART 2018 ÇARŞAMBA**

**Adı – Soyadı:.....**

**Not:.....**

**Sınıf :.....**

**Süre : 90dk.**

**1.OTURUM SORU KİTAPÇIĞI**

**TÜRKÇE- SOSYAL BİLGİLER –FEN VE TEKNOLOJİ**

**GENEL AÇIKLAMA**

1. Bu kitapçık Türkçe – Sosyal Bilgiler - Fen ve Teknoloji sorularını içermektedir. Kitapçık 25 sayfadan oluşmaktadır.
2. Bu test 30 Türkçe, 10 Sosyal Bilgiler ve 10 Fen ve Teknoloji sorusundan oluşmaktadır. (Toplam 50 soru) Tüm soruları yanıtlamanız için size 90 dakikalık süre verilecektir.
3. Her sorunun 4 seçeneği vardır. Doğru yalnız bir tanesidir. Cevap anahtarındaki doğru cevabın harfini kurşun kalemle iyice karalayınız.
4. Bir soruda birden çok seçenek karalanırsa o soru yanlış olarak değerlendirilir.
5. Bilmediğiniz soru üzerinde fazla zaman harcamayınız. Zamanınız kalırsa tekrar dönersiniz.

## TÜRKÇE TESTİ

“Alışlagelmişin dışında yağmurlu ve fırtınalı bir kış günüydü. Aniden hava buz kesmiş, bardaktan boşanırcasına yağmur ve dolu yağıyordu. Sınıfımızın içi ise sımsıcaktı. Bütün sınıf gözlerini dört açmış dışarıyı izliyordu. Doludan bembeyaz olmuş oyun alanı, kaygan olmuş yollar...

Sınıftaki çocukların içi içine sığmıyordu. Teneffüs zilinin çalmasını bekliyorlardı. Birikmiş dolularla kartopu oynanır mı? Kardan adam yapılır mı? diye merak edip, denemek istiyorlardı.

**1. Yukarıdaki parçada altı çizilmiş olan deyimın anlamı aşağıdakilerden hangisidir?**

- A) Bir işi yapmak için acele etmek, söz dinlememek.
- B) Telaş ve sabırsızlık göstermekten kendini alamamak.
- C) Akla uygun hareket etmemek.
- D) Taşkın davranışlarda bulunup rahatsızlık vermek.

**2. Aşağıdaki cümlelerin hangisinde ünsüz benzeşmesi yoktur?**

- A) Annem sabahtan beridir mutfak dolaplarının temizliğiyle uğraşiyor.
- B) Şimdiki gençlerin ileride çok iyi birer yurttaş olacaklarına inancım tamdır.
- C) Davulun sesi uzaktan hoş gelir.
- D) Ağacı kurt, insanı küçüklerin derdi yermiş derler.

## TÜRKÇE TESTİ

---

3. Aşağıdaki cümlelerin hangisinde belgisiz zamir yoktur?

- A) Öğretmenin sorduğu problemi sınıfta kimse çözemedi.
- B) 23 Nisan programında bütün çocuklar görev aldı.
- C) Bir saatte cebindeki paranın tümünü kaybetti.
- D) Bu kitapların hepsini tatilde okuyacağım.

4.

Yangın, deprem, sel, toprak kayması doğal afetler olarak adlandırılırlar. Doğal afetler maddi zararların yanında ölümlere de sebep olabilir. Türkiye’de en sık rastlanan doğal afetler, deprem ve sel felaketleridir. Bu doğal afetler engellenemez ancak bunlardan korunmak, zararlarını en aza indirmek için alınacak pek çok tedbir vardır. Alınacak bu basit tedbirler sayesinde insan hayatı korunabilir.

Yukarıdaki paragrafta aşağıda verilenlerden hangisine değinilmemiştir?

- A) Doğal afetler hem cana, hem de mala zarar verirler.
- B) Türkiye’de sık sık bazı doğal afetler olmaktadır.
- C) Doğal afetlere karşı alınacak tedbirler hayatımızı kurtarabilir.
- D) Doğal afetler, alınacak bazı basit tedbirlerle engellenebilir.

## TÜRKÇE TESTİ

5.

Özen

Garson sıcakları, soğukları ve tatlıları sırayla, masamıza getirdi.

Pembe

Soğuk hava dalgası bütün Kıbrıs'ı etkisi altına aldı.

Ayşe

Annem, dün vakitsiz evimize gelen pazarlamacıları soğuk karşıladı.

Irmak

Zeytinyağlı yemekleri genellikle soğuk yerim.

Yukarıdaki hangi öğrencimizin kurduğu cümlede “soğuk” kelimesi sıfat olarak kullanılmıştır?

- A) Pembe'nin
- B) Özen'in
- C) Ayşe'nin
- D) Irmak'ın

6.

1. Annem hep “Eski dost düşman olmaz.” der.
2. Ahmet, kalın sesiyle ve kaba davranışlarıyla bir topluluk içinde hemen fark edilir.
3. Haftaya okulda bilgi yarışması yapacağız.
4. Ablam her zaman, bahçeli evi olsun isterdi.

Yukarıda numaralandırılmış cümlelerin hangisinde diğerlerinden farklı bir tamlama kullanılmıştır?

- A) 3. cümle
- B) 4.cümle
- C) 1.cümle
- D) 2.cümle

## TÜRKÇE TESTİ

7. “Uygar insan temiz olur. Çevreyi kirletmez. Yerlere çöp atmaz. Çiçekleri, fidanları, ağaçları korur. Defterin, kitabın, kalemin ağaçtan yapıldığını bilir. Ağaç kesmez. Hayvanları sever ve korur.

Yukarıdaki paragrafta ismin hallerinden hangisi yoktur?

- A) –e hali  
B) –den hali  
C) –de hali  
D) –i hali
8. “Dün akşam Dereboyu’nda iki saat alışveriş yaptık.” cümlesindeki fiilin zaman ve kişisi aşağıdakilerden hangisidir?
- A) miş’li geçmiş zaman – birinci çoğul kişi  
B) di’li geçmiş zaman – birinci çoğul kişi  
C) di’li geçmiş zaman – üçüncü çoğul kişi  
D) geniş zaman – birinci çoğul kişi
9. Aşağıdaki cümlelerde altı çizilmiş olan sözcüklerin hangisi anlam özelliği bakımından farklıdır?

- A) Sarp hızlı adımlarla kürsüye çıktı şiirini okudu ve alkışlar eşliğinde yerine döndü.  
B) Okul Aile Birliği toplantısı uzayınca veliler sıkıntıdan patladı.  
C) Salih, kimseye görünmeden süzülüp dışarı çıktı.  
D) Bu olayda Ahmet’in de parmağı olduğu ispatlandı.

## TÜRKÇE TESTİ

10.

“Orda bir köy var, uzakta  
O köy bizim köyümüzdür.”

A.Kutsi Tecer

Yukarıdaki dizelerde altı çizilmiş olan sözcüklerin çeşitleri sırasıyla hangi seçenekte doğru olarak verilmiştir?

- A) işaret zamiri – sayı sıfatı – işaret sıfatı – kişi zamiri  
B) işaret sıfatı – sayı sıfatı – işaret zamiri – kişi zamiri  
C) işaret zamiri – belgisiz sıfat – işaret sıfatı – kişi zamiri  
D) işaret sıfatı – belgisiz zamir – kişi zamiri – niteleme sıfatı

11.

1- Belediye o parkı yeni yaptı.

A- İşaret zamiri

2- Herkes evinin önünü süpürürse sokaklar pırıl pırıl olur.

B- İşaret sıfatı

3- Bu, şunların daha gelişmiş modelidir.

C- Belgisiz zamir

Yukarıda rakamlarla verilmiş cümlelerde, altı çizilmiş sözcüklerin çeşitleri harflerle verilmiş sütunlarla nasıl eşleştirilirse doğru olur?

A)

1. A  
2. B  
3. C

B)

1. B  
2. A  
3. C

C)

1. A  
2. C  
3. B

D)

1. B  
2. C  
3. A

## TÜRKÇE TESTİ

Eskiden buraların havası temizdi, birçok ağaç, mis gibi kokan çiçekler ve kuş sesleri vardı. Evler yok denecek kadar azdı. Elektriğimiz ve yolumuz yoktu. Yolları, binaları yapmak için ağaçlar kesildi. Fabrikalar kuruldu, zehirli gazlar havayı kirletti. Fabrika atıkları, bilinçsizce kullanılan tarım ilaçları ve kimyasal gübreler suyumuzu kirletti.

12. Yukarıdaki konuşmayı yapan Ahmet dayı aşağıda verilen sorunların hangisinden dert yanıyor?

- A) Yaşadığı memleketin siyasi sorunlarından.
- B) Yaşadığı memleketin çevre sorunları ve kirlenmesinden.
- C) Fabrika inşaatlarının zararlarından.
- D) Teknolojinin olumsuz yanlarının çok oluşundan.

13. "Bahçedeki yemiş kağıtlarını teneffüs bitiminde Süleyman toplayacak" Nöbetçi öğretmenin çocuklara söylediği bu cümlenin zamanı ve kişisi aşağıdaki cümlelerin hangisiyle aynıdır?

- A) Yemekten önce ellerini sabunla yıkadı.
- B) Annem sabahleyin aynı saatte kalkar.
- C) Annem 23 Nisan törenimizde, beni izlemeye gelecek.
- D) Girne- Lefkoşa yolu tamir edilmiş.

## TÜRKÇE TESTİ

14. Aşağıdaki cümlelerin hangisinde “bir” sözcüğü belgisiz sıfat olarak kullanılmıştır?

- A) Hiç belli olmaz, bakarsın bir gün yine karşılaşırız.
- B) Günde bir saat yürüyüş yaparım.
- C) Bizim evde günde bir ekmek tüketilir.
- D) Maç bittikten bir dakika sonra hakem sahadan çıktı.

15. Aşağıda verilen cümlelerin hangisinde kişi zamiri vardır?

- A) Çocuklar: “Sınıfımızı boyamak için şunları kenara çekmeliyiz”.
- B) Tatilde ödev olarak verilen o soruların yarısını çözemedim.
- C) Anneciğim; aldığın hediyeler içinde en çok bunu beğendim.
- D) Eve temizlikçi getiriyor ama balkonlarını kendisi siliyor.

16.

Tekerlek ilk olarak Mezopotamya’da icat edilmiştir. Tekerlek mekanizması ise ilk olarak yel değirmenlerinde uygulanmıştır. Daha sonra ise ulaşım alanında önemli gelişmeleri beraberinde getirmiştir.

Yukarıdaki paragrafta verilen bilgiye göre tekerleğin icadıyla ilgili olarak aşağıdakilerden hangisine ulaşamaz?

- A) Tekerlek, ulaşımın dışında başka alanlarda da kullanılmaktadır.
- B) Tekerlek Mezopotamya’da yaşayan Türkler tarafından icat edilmiştir.
- C) Tekerlek ulaşımın gelişmesinde önemli rol oynamıştır.
- D) Tekerlek mekanizması ilk olarak yel değirmenlerinde uygulanmıştır.



## TÜRKÇE TESTİ

17. Aşağıdaki cümlelerin hangisinde ulama yoktur ?

- A) Ahmet, okul hayatında her zaman başarılı olmuş bir öğrenciydi.
- B) Kar yağdıktan sonra bahçeye çıkıp kardan adam yapmak için sabırsızlanıyorduk.
- C) Burs sınavlarında yapılacak değişiklikler daha sonra size bildirilecek.
- D) İlkokuldaki sınıf arkadaşlarımı hiç unutmadım.

**Düşünce, sadece kişiye ait olduğu için değerli ve önemlidir. Tek tip düşünen, tek tip konuşan, ezberleyen ve papağan gibi aynı şeyleri tekrarlayan bir neslin yetişmesini istemiyorsak öğrencilerin sahip oldukları hayal gücünü açığa çıkarmaları için onları desteklemeliyiz. Onların paylaştıkları düşünceleri saçma, anlamsız gibi ifadelerle eşleştirirsek belli bir süre sonra hayal gücünü bütünüyle kaybetmiş sıradan ve siyah beyaz düşünen, yalnızca söyleneni yapan, üretmeyen bir nesil ortaya çıkar.**

18. Yukarıdaki parçada yazarın şikayet ettiği durum aşağıda verilenlerden hangisidir?

- A) Büyüklerin, çocukların hayal gücünü ve düşüncelerini kısıtlayan ifadeler kullanması.
- B) Çocukların kitap okumaya yönlendirilmemesi.
- C) Çocukların teknolojiden yeteri kadar yararlandırılmaması.
- D) Büyüklerin çocuklarına örnek olacak davranışlar sergilememesi.

## TÜRKÇE TESTİ

---

19. Parçaya göre düşünce neden çok önemlidir?

- A) Tek tip düşünmemizi geliştirdiği için.
- B) Tek tip konuşan ve aynı şeyleri tekrarlayan kişiler olmamızı sağladığı için.
- C) Hayal gücünü artırıp siyah beyaz düşünmemizi sağladığı için.
- D) Yalnızca bir kişiye ait olduğu için.

20. Aşağıdaki seçeneklerde verilen atasözlerinin hangisinde sıfat tamlaması yoktur?

- A) Yanlış hesap Bağdat'tan döner.
- B) Bıçak yarası geçer ama dil yarası geçmez.
- C) Korkak bezirgan, ne kâr eder ve ziyan.
- D) Tatlı dil yılanı deliğinden çıkarır .

21. Aşağıdaki cümlelerin hangisinde eylemin gerçekleşme zamanı yanlış verilmiştir?

- A) Kompozisyon yarışmasında dereceye giren yazım, okul dergimizde de yayınlanacak. – **Şimdiki zaman**
- B) Sınıfımıza yeni gelen arkadaşımız, dersin sonuna gelmeden ağlamaya başladı. – **Geçmiş zaman**
- C) KGS sınavı bir hafta önceye alınmış. – **Geçmiş zaman**
- D) Dedem akşam yemeklerinde genellikle hafif yiyecekler yer. – **Geniş zaman**

## TÜRKÇE TESTİ

I – en büyük iyilik

II – kötülüklerle savaşmaktır.

III – elimizden geldiğince

IV – insanlara yapabileceğimiz

22. Yukarıdaki sözcük öbekleriyle anlamlı ve kurallı bir cümle oluşturmak istersek doğru sıralama hangisi olur?

A) I - II – III - IV

B) IV – II – I - III

C) IV - I – III - II

D) IV – III – II - I

23. Aşağıdaki cümlelerin hangisinde topluluk ismi kullanılmamıştır?

A) Çoban sürüsünü önüne katıp meraya doğru gidiyor.

B) Bahçedeki çiçekleri sulama işini ben yapıyorum.

C) Öğretmen dönem ödevi için bizi gruplara ayırdı.

D) Ailemizde herkesin ayrı bir görevi ve sorumluluğu vardır.

## TÜRKÇE TESTİ

24.

Teknoloji, hayatımıza hem renk katar hem de işlerimizi kolaylaştırır. Ancak teknolojik ürünler çevre ve insan sağlığına zarar verebiliyor. Örneğin; bilgisayar, televizyon, cep telefonu gibi çok sık kullandığımız araçlar radyasyon yayar. Radyasyon insanda ölümcül hastalıklara sebep olan bir ışın türüdür. Teknolojik araçları çok sık kullanmaktan, vücudumuza yakın tutmaktan kaçınmalıyız.

Yukarıdaki parçada, aşağıda verilenlerden hangisine değilmemiştir?

- A) Teknolojinin insanlara çok faydası vardır.
- B) Teknolojik araçların çoğu radyasyon yayar.
- C) Teknolojik araçlarla yakın temas sağlığa zararlıdır.
- D) Teknolojik araçların geliştirilmesine bir sınırlama getirilmelidir.

25. Aşağıdaki cümlelerin hangisinde birden fazla isim tamlaması vardır?

- A) Kemal beslenme çantasının kapağını kırdı.
- B) Ayşe yazdığı önemli sözcüklerin altını kırmızı kalemle çizer.
- C) Miray resim defterine pembe bir gül yaptı.
- D) Öğretmen, benim şiirimi sınıfın kapısına astı.

26. Aşağıdaki cümlelerin hangisinin fiili geniş zamanlıdır?

- A) Bir aksilik olmazsa hafta sonu döneceğim.
- B) Ben kimseye senin hakkında bir şey söylemedim.
- C) Gece geç saatlere kadar kitap okurum.
- D) Sınıfta olan biten herşeyi müdüre anlatmış.

## TÜRKÇE TESTİ

---

Mahallemizde  
Senden başka ağaç olsaydı  
Seni bu kadar sevmezdim.  
Fakat eğer sen,  
Bizimle beraber  
Kaydırak oynamasını bilseydin  
Seni daha çok severdim.

Orhan Veli Kanık

**27. Yukarıdaki şiirde şairin, ağacı sevmesinin nedeni nedir?**

- A) Ağacın kaydırakta kaymasını bilmemesi.
- B) Mahallede başka ağaç olmaması.
- C) Mahalledeki bütün ağaçların kendisiyle oynaması.
- D) Mahalledeki diğer ağaçlara göre yapraklarının daha gür olması.

**28. Aşağıdaki cümlelerin hangisinde kişi zamiri kullanılmamıştır?**

- A) Bunların hepsini o marketten aldım.
- B) Bu anlatılan kötü davranışları sen mi yaptın?
- C) Aldığın yemişlerden bana da verecek misin?
- D) İnsanlar, ortaya çıkan sorunları kendileri çözmelidir.

## TÜRKÇE TESTİ

29. Kimi insanlar, yeni şeyler öğrenmek için kitap okur. Kimileri de hoşça vakit geçirmek için kitap okur. Hastalığıyla ilgili bilgilenmek isteyen insanlar da kitapları karıştırır. Ödev hazırlayan bir öğrenci, bir yemek tarifini öğrenmek isteyen bir ev hanımı da kitaplara başvurur.

**Yukarıda paragrafa göre aşağıda verilenlerden hangisi doğrudur?**

- A) Herkes farklı ihtiyaçlardan dolayı kitap okuyor.  
B) Herkesin kitap okuması gerekir.  
C) Bazı kişiler daha fazla kitap okur.  
D) Toplum olarak biz kitap okumayı çok severiz.

30.

Güliz

Bu korku bana kaza yaptığım o günden kaldı.

Şengül

Bu ödevi yaparken kesinlikle annesi ona yardım etmiştir.

Nebile

O, birkaç yılda bir çiçek açan özel bir bitkidir.

Hatice

Bu, o çantadan daha kaliteliymiş gibi görünüyor.

**Yukarıdaki kişilerin kurdukları cümlelerin hangisinde “o” sözcüğü işaret zamiri olarak kullanılmıştır?**

- A) Güliz’in cümlesinde  
B) Şengül’ün cümlesinde  
C) Nebile’nin cümlesinde  
D) Hatice’nin cümlesinde

**TÜRKÇE TESTİNİZ BİTMİŞTİR.  
YANITLARINIZI KONTROL EDEREK SOSYAL BİLGİLER TESTİNE GEÇİNİZ.**

## SOSYAL BİLGİLER TESTİ

---

31. Orijinal ismi Aziz Nikolas Katedrali olan ve bir katolik kilisesi olarak yapılan, Osmanlıların Kıbrıs'ı fethinden sonra camiye çevrilen tarihi eserin adı nedir ve nerededir?

- A) Lala Mustafa Paşa Camisi – Mağusa
- B) Selimiye Camisi - Lefkoşa
- C) Lala Mustafa Paşa Camisi - Lefkoşa
- D) Canbulat Bey Camisi - Mağusa

32.

- I. KKTC'de ülke genelinde oy kullanılarak yapılan seçimlere genel seçimler denir.
- II. Genel seçimler 5 yılda bir tekrarlanır.
- III. Yerel seçimlerde Cumhurbaşkanı ve milletvekilleri seçilir.
- IV. Yerel seçimler 5 yılda bir tekrarlanır.
- V. 18 yaşını doldurmuş olan her KKTC vatandaşı seçimlerde oy kullanabilir ve milletvekili adayı olabilir.
- VI. KKTC'de Cumhurbaşkanı seçilme yaşı 35'tir.

Ülkemizin yönetimiyle ilgili olarak yukarıda verilenlerden kaç tanesi doğrudur?

- A) 6
- B) 5
- C) 4
- D) 3

## SOSYAL BİLGİLER TESTİ

33. Aşağıda bazı Kıbrıs haritalarının ölçekleri verilmiştir. Hangi ölçekli harita ile Kıbrıs'ın daha ayrıntılı incelemesi yapılabilir?

A)  $\frac{1}{400.000}$

B)  $\frac{1}{200.000}$

C)  $\frac{1}{800.000}$

D)  $\frac{1}{1.200.000}$

34.

Okulda verilen eğitim ve öğretimden yararlanırım.	
Okulun eşyalarına ve araçlarına zarar vermem.	
Hasta olunca hastaneye giderim.	
Ödevlerimi zamanında yaparım.	
Çevremi temiz tutarım.	
Okula zamanında giderim.	
Bir adım ve resmi kimliğim var.	

Yukarıda verilen ifadelerden, sırasıyla kaç tanesi hakkım, kaç tanesi sorumluluğumdur?

A) 3 – 4

B) 4 – 3

C) 4 – 4

D) 2 – 5



## SOSYAL BİLGİLER TESTİ

---

35. Sivil toplum örgütleriyle ilgili olarak aşağıda verilen bilgilerden hangisi doğrudur?

- A) Sivil toplum örgütlerinde çalışanlar, hizmetleri karşılığında devletten maaş alırlar.
- B) Sivil toplum örgütlerinin gelirleri devlet bütçesinden sağlanır.
- C) Sivil toplum örgütleri toplumsal sorunların çözümü için katkı koyarlar.
- D) Sivil toplum örgütleri sadece eğitim ve sağlık sorunlarına yönelik çalışırlar.

36. Kıbrıs'ın dünya üzerindeki yeri (konumu) ile ilgili olarak aşağıda verilen bilgilerden hangisi yanlıştır?

- A) Kıbrıs, Ekvator'un kuzeyinde olduğu için kuzey yarım kürededir.
- B) Kıbrıs, Ekvator'a yakın olduğu için yazları çok sıcak ve kurak, kışları ise az yağışlı olur.
- C) Kıbrıs adası üzerinden,  $35^{\circ}$  kuzey paraleli ile  $33^{\circ}$  ve  $34^{\circ}$  batı meridyenleri tam olarak geçer.
- D) Kıbrıs, Ekvator'un kuzeyinde ve Greenwich'in doğusunda yer alır.

37. KKTC'de 15 Kasım 1983'ten günümüze kadar kaç tane Cumhurbaşkanı seçimle göreve gelmiştir ?

- A) 5
- B) 4
- C) 3
- D) 2

## SOSYAL BİLGİLER TESTİ

38.

1-	(.....) Devletin yönetimi kral, imparator, şah, padişah gibi kişilerin elinde olan yönetim şekline denir.
2-	(.....) Devletin yönetimi ve egemenliğin tamamen halka halka ait olduğu yönetim şekline denir.
3-	(.....) Din kurallarına dayalı olan ve egemenliğin tamamen din adamlarında olduğu yönetim şekline denir.
4-	(.....) Egemenliğin, ülke içerisindeki bir gruba veya bir zümreye ait olan yönetim şekline denir.

Oligarşi
Monarşi
Demokrasi
Teokrasi

Yukarıda yönetim şekilleriyle ilgili olarak verilen açıklamaların başındaki noktalı yere sağ taraftaki kavramları nasıl yazarsak, doğru olur?

A)

- 1) Oligarşi
- 2) Monarşi
- 3) Demokrasi
- 4) Teokrasi

B)

- 1) Monarşi
- 2) Demokrasi
- 3) Teokrasi
- 4) Oligarşi

C)

- 1) Monarşi
- 2) Demokrasi
- 3) Oligarşi
- 4) Teokrasi

D)

- 1) Teokrasi
- 2) Demokrasi
- 3) Monarşi
- 4) Oligarşi

## SOSYAL BİLGİLER TESTİ

---

39.

- I- Osmanlılar Kıbrıs'ı Venediklilerin elinden aldı.
- II- Venedikliler Kıbrıs'ı Osmanlılardan korumak amacıyla Mağusa, Lefkoşa ve Girne'yi surlarla çevirdiler.
- III- Selimiye Camisi, Kıbrıs'ın fethi sırasında padişah olan II. Selim adına Osmanlılar tarafından yapılmış bir tarihi eserdir.
- IV- Girne Kapısı, ilk Osmanlı Valisi Muzaffer Paşa tarafından, Lefkoşa'ya girişi rahatlatmak amacıyla 1572 yılında yapıldı.
- V- "Venedik Sütunu" (Dikilitaş) Venedikliler tarafından Salamis Harabelerinden getirilip Sarayönü Cami'sinin avlusuna dikilmiştir.

Geçmişten günümüze Kültürel Mirasımızla ilgili olarak yukarıda verilen ifadelerden kaç tanesi doğrudur?

- A) 4
- B) 3
- C) 2
- D) 1

## SOSYAL BİLGİLER TESTİ

40.

D/Y

180 tane paralel vardır. Bunların 90 tanesi Ekvatorun kuzeyinde, 90 tanesi de güneyindedir.	
Meridyenlerin başlangıç noktası Londra'daki Greenwich Gözlem evi'nin üzerindedir.	
Kıbrıs, Ekvator'un kuzeyinde ve Greenwich'in batısında yer alır.	
Matematiksel konum olarak Kıbrıs'ta "Akdeniz İklimi" görülür.	

Yukarıdaki ifadelerden doğru olanın yanına "D", yanlış olanın yanına "Y" harfi koyarsak doğru seçenek aşağıdakilerden hangisi olur?

A)

D
D
Y
Y

B)

D
Y
D
Y

C)

D
D
D
Y

D)

D
D
Y
D

**SOSYAL BİLGİLER TESTİNİZ BİTMİŞTİR.  
YANITLARINIZI KONTROL EDEREK FEN VE TEKNOLOJİ TESTİNE GEÇİNİZ.**

## FEN VE TEKNOLOJİ TESTİ

41. I- Gaz halindeki bir maddenin soğuk bir madde ile temas edip soğuması ve sıvı hale geçmesine yoğuşma denir.  
II- Kaynama belli bir sıcaklıkta olur.  
III- Bütün saf maddelerin erime ve donma sıcaklıkları aynıdır.  
IV- Maddelerin erime, donma ve kaynama noktaları maddelerin miktarlarına bağlıdır.  
V- Gaz halinde bir maddenin ısı kaybederek sıvı hale geçmeden doğrudan katı hale geçmesine süblimleşme denir.

Yukarıdaki ifadelerden kaç tanesi doğrudur?

- A) 2  
B) 3  
C) 4  
D) 5

42. 1-MİDE 2-İNCE BAĞIRSAK 5-YUTAK 7-AĞIZ  
3-ANÜS 4-KALIN BAĞIRSAK 6-YEMEK BORUSU

Yukarıdaki numaralandırılmış kartlarda sindirim sisteminin organları verilmiştir. Sindirimin başlangıcından itibaren sırasıyla hangi organlarda yapıldığı aşağıdaki seçeneklerden hangisinde doğru olarak verilmiştir?

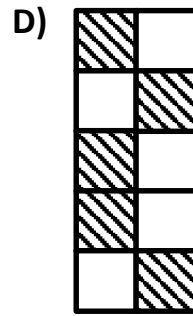
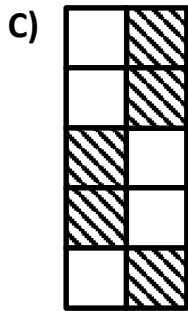
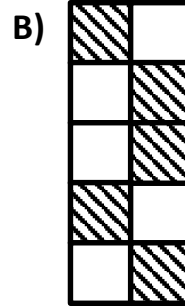
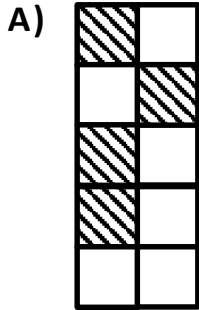
- A) 7- 5- 6- 1- 2- 4 –3  
B) 1- 4- 7- 2- 5- 3- 6  
C) 4- 7- 1- 5- 6- 3- 2  
D) 7- 1- 6- 5- 2- 3- 4

## FEN VE TEKNOLOJİ TESTİ

43.

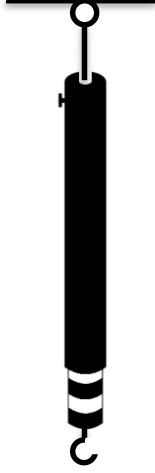
		D	Y
1-	Kuvvet, uygulanan cisimlerin yönünü değiştirir.		
2-	Kuvvet birimi dinamometredir.		
3-	Sürtünme kuvveti cisimlerin hızını yavaşlatır.		
4-	Sürtünme kuvveti kaygan yüzeylerde daha az, pürüzlü yüzeylerde daha fazladır.		
5-	Büyük kuvvetleri ölçen dinamometrelerde ince ve yumuşak yay kullanılır.		

Yukarıda verilen ifadelerden doğru olanın yanındaki "D" sütununu, yanlış olanın yanındaki "Y" sütununu boyarsak hangi seçenekteki şekil doğru olur?



## FEN VE TEKNOLOJİ TESTİ

44.



Skalası 15 bölme olarak tasarlanmış bir dinamometreye 12 N kuvvet uygulandığı zaman şekilde görüldüğü gibi skalası 4 bölme dışarıya çıkıyor. Buna göre bu dinamometre en fazla kaç N kuvvet ölçer?

- A) 35 N
- B) 55 N
- C) 45 N
- D) 40 N

45. Aşağıda verilen bilgilerden hangisi “gövdenin” görevlerinden biri değildir?

- A) Bitkinin dik ve ayakta durmasını sağlar.
- B) Bitkinin solunum yapmasını ve besin üretmesini sağlar.
- C) Bitkinin kökü ile yaprakları arasında madde iletimini sağlar.
- D) Bitkinin meyve, çiçek, yaprak, dal gibi yapılarını taşır.

46. Güneş tutulmasıyla ilgili olarak aşağıda verilen bilgilerden hangisi yanlıştır?

- A) Güneş tutulması sırasında Güneş, Ay ve Dünya aynı doğrultudadır.
- B) Güneş tutulması, ışığın doğrusal olarak yayılması sonucu oluşur.
- C) Güneş tutulmasında Güneş, Ay ve Dünya'nın arasına girer.
- D) Güneş tutulmasında, Ay'ın gölgesi Dünya üzerine düşer ve tam gölge oluşur.

## FEN VE TEKNOLOJİ TESTİ

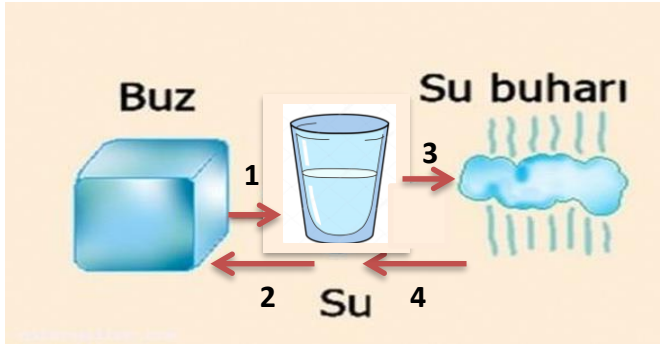
47.

“Ses en hızlı \_\_\_\_\_ , en yavaş ise \_\_\_\_\_ yayılır .”

Yukarıdaki ifadede boş bırakılan yerlere sırasıyla aşağıda verilenlerden hangisi gelmelidir?

- A) katılarda – gazlarda
- B) katılarda – sıvılarda
- C) gazlarda- katılarda
- D) sıvılarda - gazlarda

48.



Yukarıda suyun hal değişimi şema halinde verilmiştir. Bu şema 1- 2- 3- 4 rakamlarının yerine sırasıyla aşağıdakilerden hangisi getirilmelidir?

A)

- 1 → Erime
- 2 → Buharlaşma
- 3 → Donma
- 4 → Yoğuşma

B)

- 1 → Buharlaşma
- 2 → Yoğuşma
- 3 → Erime
- 4 → Donma

C)

- 1 → Erime
- 2 → Yoğuşma
- 3 → Buharlaşma
- 4 → Donma

D)

- 1 → Erime
- 2 → Donma
- 3 → Buharlaşma
- 4 → Yoğuşma



## FEN VE TEKNOLOJİ TESTİ

49.

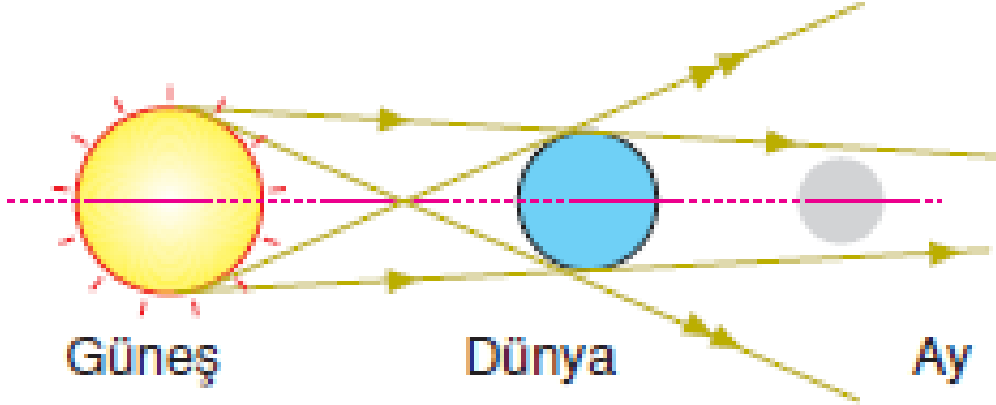
“Bilim insanları hayvanları temel olarak iki grupta incelerler. Bu gruplar:

- 1- .....
- 2- .....

Boş bırakılan yerlere hangisi gelmelidir?

- A) 1- Omurgalı Hayvanlar  
2- Omurgasız Hayvanlar
- B) 1- Omurgalı Hayvanlar  
2- İskeletsiz Hayvanlar
- C) 1- Sürüngen Hayvanlar  
2- Solucanlar
- D) 1- İskeletli Hayvanlar  
2- İskeletsiz Hayvanlar

50.



Yukarıdaki model neyi göstermektedir?

- A) Güneş tutulmasını
- B) Dünya tutulmasını
- C) Ay tutulmasını
- D) Opak maddelerin ışığa yansıtmasını

FEN VE TEKNOLOJİ TESTİNİZ BİTMİŞTİR. YANITLARINIZI KONTROL EDİNİZ.